

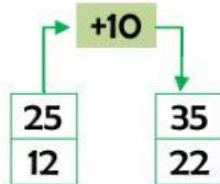
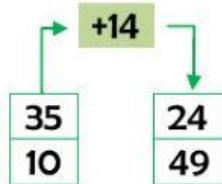
OPERADORES DE ADICIÓN

Escribe el operador o el número que falta para que se cumplan las operaciones.

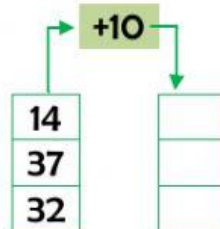
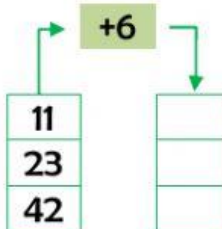
$$20 \quad \bigcirc \quad 6 \quad = \quad 26$$

$$13 \quad + \quad 16 \quad = \quad \square$$

Une con líneas según el operador planteado.



Completa según el operador planteado.



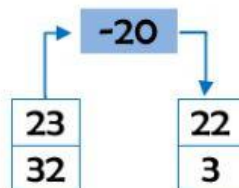
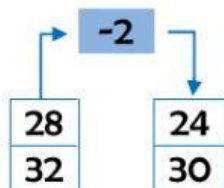
OPERADORES DE LA SUSTRACIÓN

Escribe el operador o el número que falta para que se cumplan las operaciones.

$$20 \quad \bigcirc \quad 6 \quad = \quad 14$$

$$46 \quad - \quad 23 \quad = \quad \square$$

Une con líneas según el operador planteado.



Completa según el operador planteado.

