

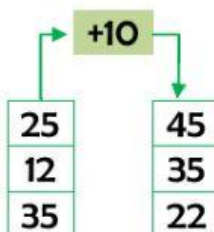
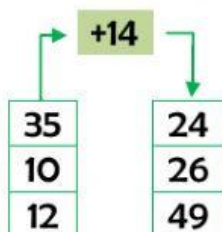
OPERADORES DE ADICIÓN

Escribe el operador o el número que falta para que se cumplan las operaciones.

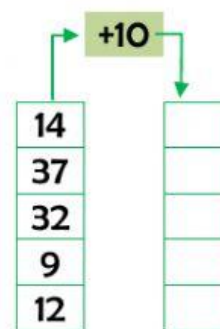
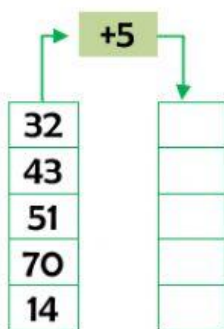
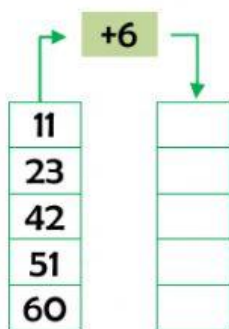
$20 \quad \bigcirc \quad 6 \quad = \quad 26$

$13 \quad + \quad 46 \quad = \quad \square$

Une con líneas según el operador planteado.



Completa según el operador planteado.



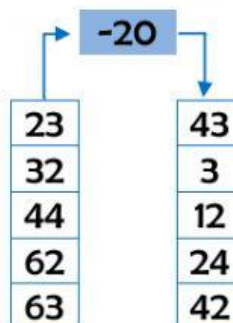
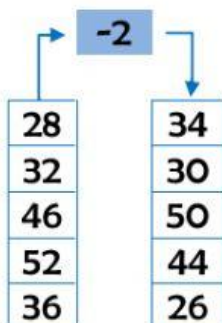
OPERADORES DE LA SUSTRACIÓN

Escribe el operador o el número que falta para que se cumplan las operaciones.

$20 \quad \bigcirc \quad 6 \quad = \quad 14$

$46 \quad - \quad 23 \quad = \quad \square$

Une con líneas según el operador planteado.



Completa según el operador planteado.

-6

68	
96	
39	
40	
67	

-5

48	
30	
55	
76	
49	

-30

93	
85	
69	
43	
30	