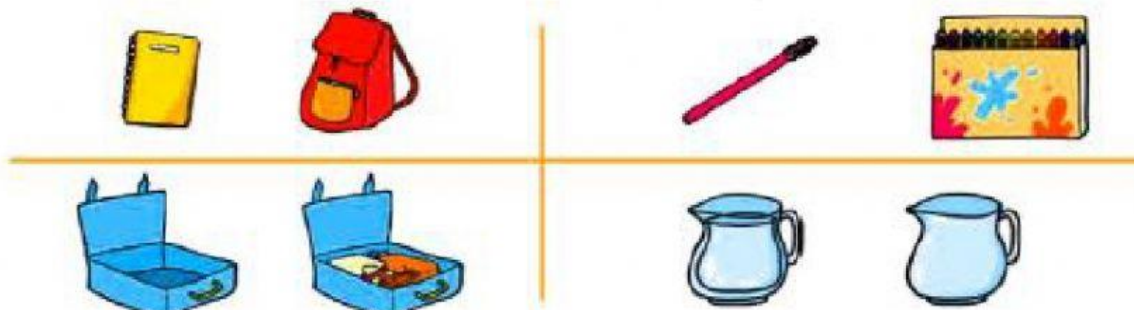




Nombre: \_\_\_\_\_ Fecha: \_\_\_\_\_

FICHA 17: ¿Cuánto pesa?


- Rodea/señala en cada caso el objeto que más pesa.




- Lee y colorea/señala el paquete que corresponde.

El paquete rojo pesa más que el paquete verde.


El paquete azul pesa menos que el paquete amarillo.




- Observa y completa.



más      menos

La  pesa \_\_\_\_\_ de un kilo.



La  pesa \_\_\_\_\_ de un kilo.