



หน่วยการเรียนรู้ที่ 13







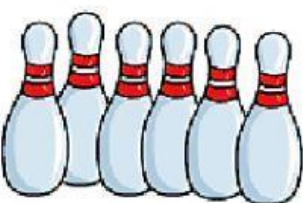

เรื่อง ของเล่นของใช้

ใบงานที่ 1

โรงเรียนบ้านสามแยก.....ชั้นอนุบาลปีที่ ...3...

ชื่อ.....นามสกุล.....

คำชี้แจง : ให้นักเรียนนับจำนวนสิ่งของและหาผลบวก แล้วเติมคำตอบให้ถูกต้อง

	+		=	<input type="text"/>
	+		=	<input type="text"/>
	+		=	<input type="text"/>
	+		=	<input type="text"/>