


## INSTRUCCIONES:

Ahora, vamos a resolver tres tareas que tienen que ver con el razonamiento deductivo. Presta mucha atención pues algunos ejercicios te resultarán difíciles. Dispones de 15 MINUTOS para realizar las dos tareas.

**1.ª TAREA:** Se trata de que marques con una X aquel diagrama que sea correcto en relación con la afirmación que se realiza en cada pregunta. Veamos el ejemplo.

*“Todos los santiaguinos (S) son latinoamericanos (L)”*


EJEMPLO



1 ☒ 3 4

Aquí hemos marcado el 2 pues es el único diagrama que cumple la afirmación. ¿Alguna duda? Cuando acabes la 1ª tarea, pasas a la 2ª. ADELANTE.

**1** *“No todas las antofagastinas (A) son morenas (M)”*



1 2 3 4

**2** *“Sólo unos pocos sillones (S) son electrónicos (E)”*




1 2 3 4

**3** *“Si te gusta la naturaleza (GN) eres ecologista (E)”*




1 2 3 4

**4** *“Algunos santiaguinos (S) son mapuches (M)”*




1 2 3 4

**5** *“Ningún iguanodonte (I) es gigante (G)”*




1 2 3 4

**6** *“Todos los submarinos (S) son insumergibles (I)”*



1 2 3 4

**7** *“Ninguna abeja (A) juega a la lotería (L)”*



1 2 3 4