

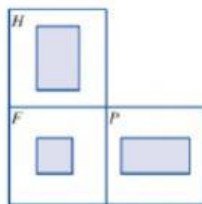
Examen:

Pregunta 1:

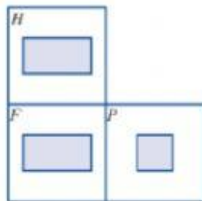
Gonzalo observa la mesa de centro que desea comprar su mamá. Indica las tres vistas de dicho mueble.



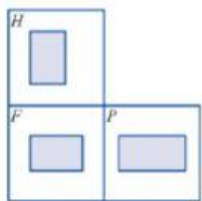
A)



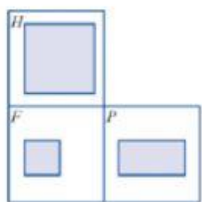
B)



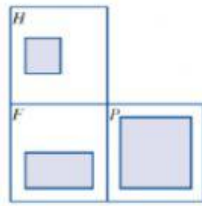
C)



D)



E)

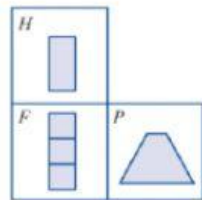


Pregunta 2

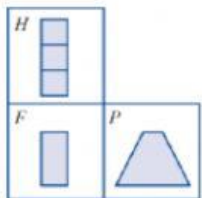
Felipe está practicando piruetas con su nuevo *skate*. Indica las posibles vistas horizontal, frontal y de perfil de la siguiente rampa:



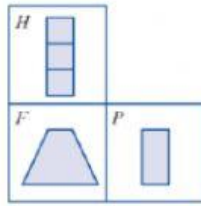
A)



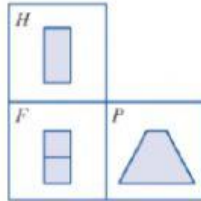
B)



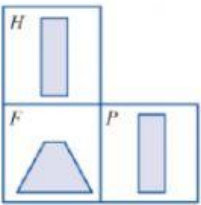
C)



D)



E)

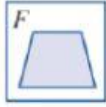


Pregunta 3

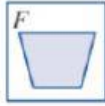
Elita le ha colocado un collarín isabelino a su perro Chispas como el que se ve en la imagen. ¿Cuál es la representación de la vista frontal de dicho objeto?



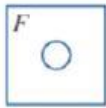
A)



B)



C)



D)

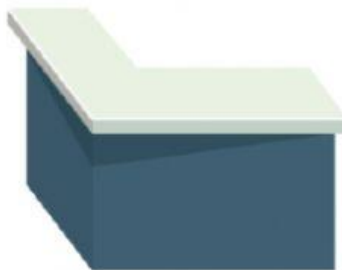


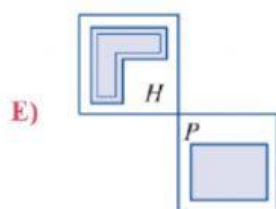
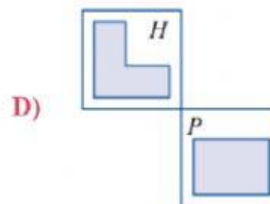
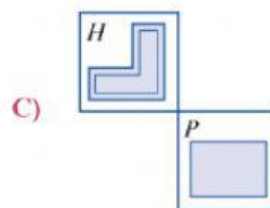
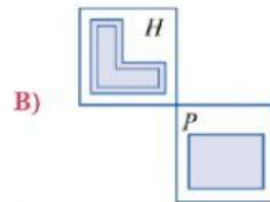
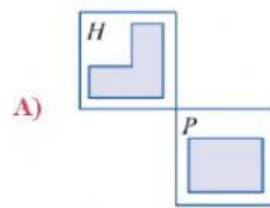
E)



pregunta 4

El señor Fernando tiene una nueva barra en la cocina de su casa, como se ve en la imagen.
¿Cuáles son las vistas horizontal y de perfil?



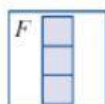


Pregunta 5

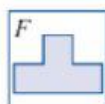
Paula encontró una pieza de su cubo soma. Indica la vista frontal de dicha pieza.



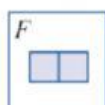
A)



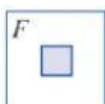
B)



C)



D)



E)

