

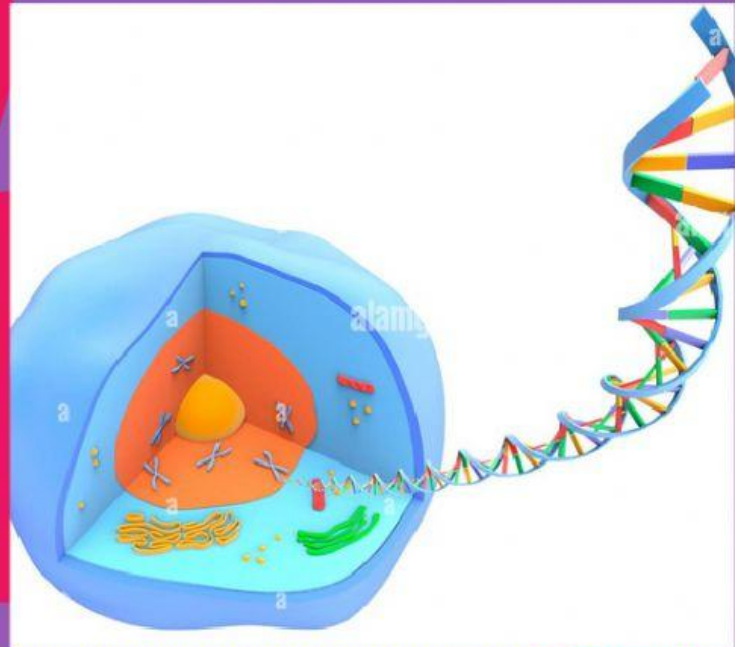
LICEO DE LOJA

EDUCACIÓN INTEGRAL



HOLA LUIS MIGUEL

VAMOS A TRABAJAR






ACTIVIDAD 1



- ESCRIBE EN EL RECUADRO EL NOMBRE DE ESTAS ESTRUCTURAS



2.- MARCA LA RESPUESTA CORRECTA

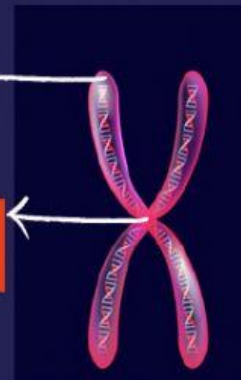
A.- EL NÚMERO DE CROMOSOMAS DEL SER HUMANO ES:

- 23 CROMOSOMAS
- 35 CROMOSOMAS
- 46 CROMOSOMAS
- 15 CROMOSOMAS

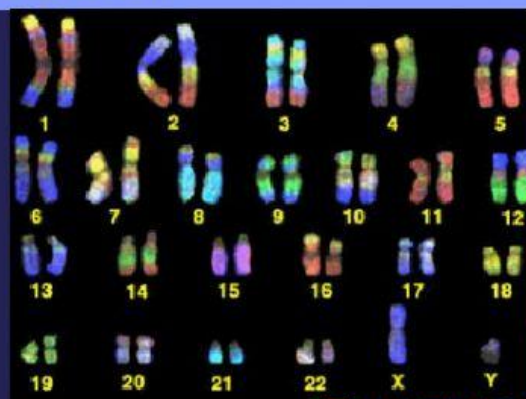
1.- ARRASTRA LAS PARTES DE ESTOS CROMOSOMAS

CENTRÓMERO

CROMÁTIDAS HERMANAS




EL CONJUNTO DE CROMOSOMAS DEL CUERPO SE LLAMA:





ACTIVIDAD 2



1.- ELEMENTOS QUÍMICOS

RUTENIO	PLATINO	RENIO	IRIDIO	OSMIO
Re	Ir	Os	Pt	Ru

1.- SELECCIONA EL SIMBOLO QUE CORRESPONDE DE ACUERDO A SU NOMBRE

ZIRCONIO	Zr	Os
TORIO	Pt	Th
HAFMIO	Hf	Ir

UNE CON UNA LÍNEA SEGÚN CORRESPONDA

G1

SINTESIS DE ADN

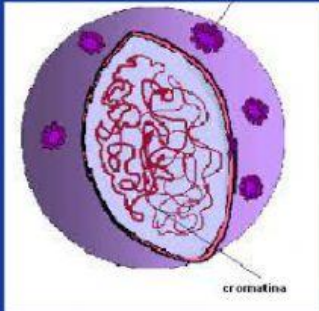
G2

CRECIMIENTO FINAL

S

CRECIMIENTO INCIAL

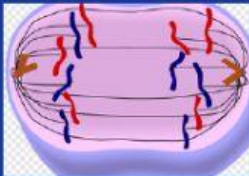
SEÑALA LA RESPUESTA CORRECTA: EN LA INTERFASE EL ADN SE LLAMA



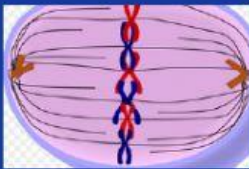
CROMOSOMAS

CROMATINA

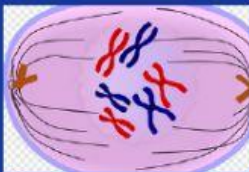
OBSERVA LAS IMÁGENES Y UNE CON UNA LÍNEA SEGUN CORRESPONDA:



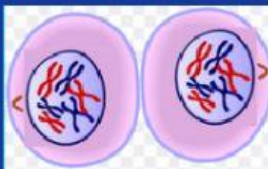
TELOFASE



ANAFASE



METAFASE



PROFASE

1.- SEÑALA LA RESPUESTA CORRECTA:

OBSERVA EL GRÁFICO Y ESCRIBE EL NOMBRE CORRESPONDIENTE:

