

Nombre: _____ N° Ordinal de clase: _____

Fecha larga: _____


7. Piensa y resuelve.

- Luis tiene 25 cuantos; Marcos, 26, y Teo, 48.

¿Cuántos cuantos tienen en total?

Datos ► , y

Operación ►




Solución ►

- En el tren había 64 viajeros. Ahora hay 90.

¿Cuántos viajeros más que antes hay ahora?

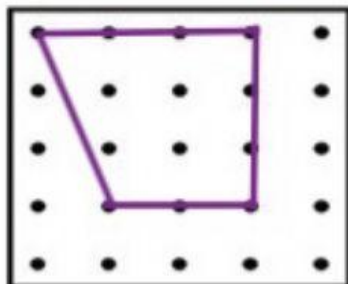
Datos ► y

Operación ►



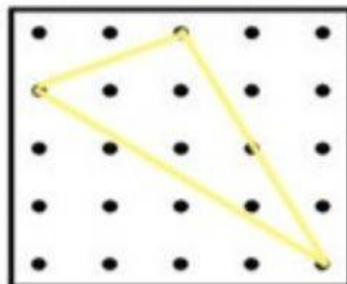
Solución ►

8. ~~Dibuja polígonos de diferentes lados. Luego coloréalos y escribe cuantos lados y vértices tiene cada uno.~~



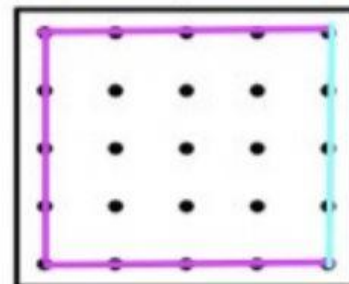
Vértices:

Lados:



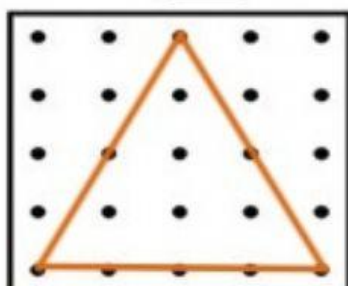
Vértices:

Lados:



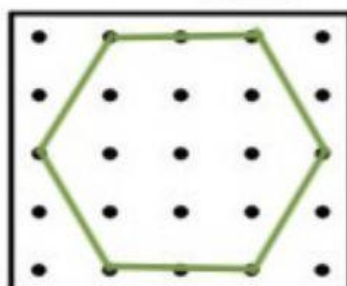
Vértices:

Lados:



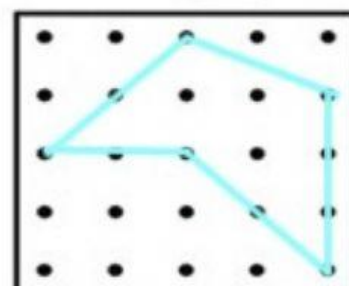
Vértices:

Lados:



Vértices:

Lados:



Vértices:

Lados: