

# MATEMÁTICAS

1. Arrastra y ordena los siguientes números:

505

109

367

89

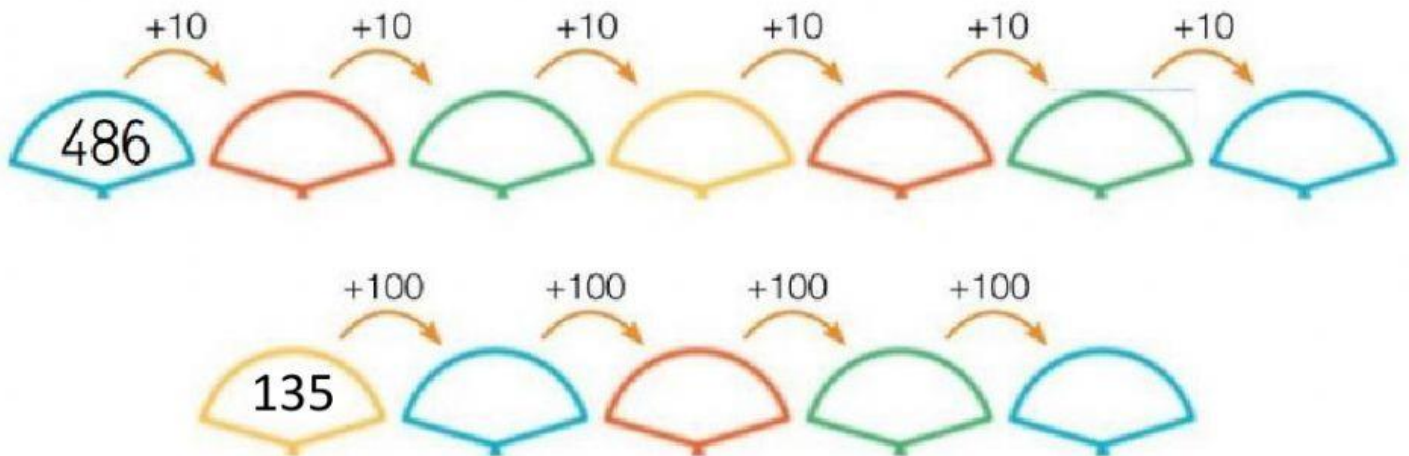
515

450

370

>  >  >  >  >  >

2. Completa las series



3. Escucha el dictado y escribe los números.















4. Completa con los números anterior y posterior.

— 100 —

— 310 —

— 390 —

— 499 —


— 400 —

— 509 —


### 5. Sigue las series.



### 6. Escribe los números.

$5C + 8D + 15U$  

$3C + 1U$  

$3C + 20U$  

$5U + 3C + 4D$  