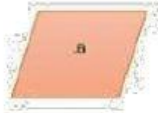


EXAMEN FINAL DE MATEMÁTICA

NOMBRE Y APELLIDO: _____

1. COLOCA DENTRO DEL PARÉNTESIS EL NÚMERO QUE LE CORRESPONDE

1)



() recta

2)



() rayo

3)



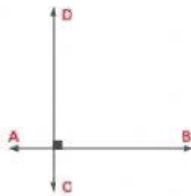
() punto

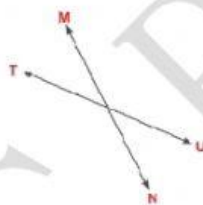
4)




() plano

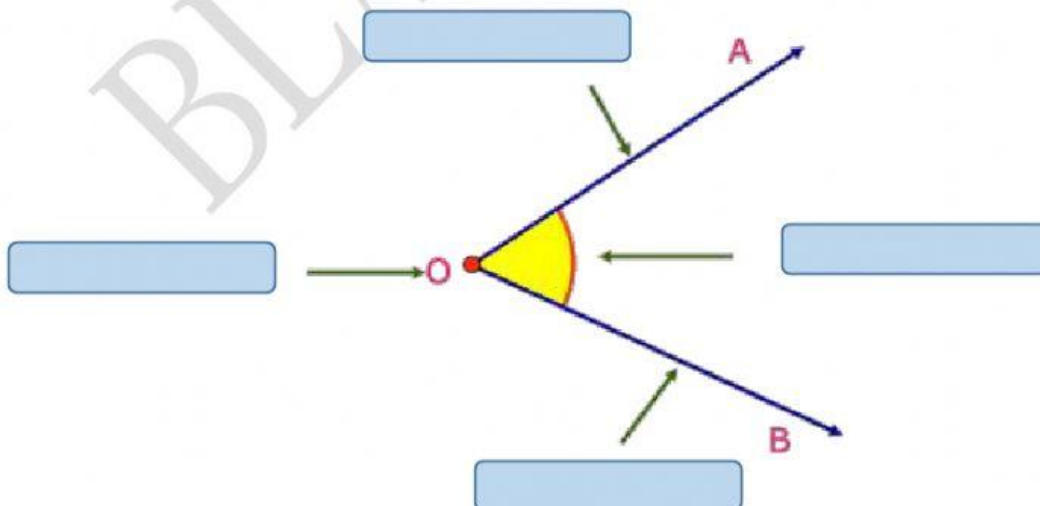
2. ESCRIBE EL NOMBRE DE LAS RECTAS SEGÚN SU CLASE (PARALELA, PERPENDICULAR U OBLICUA)



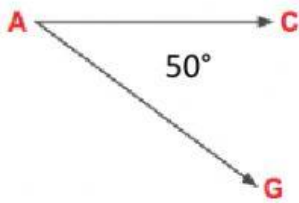


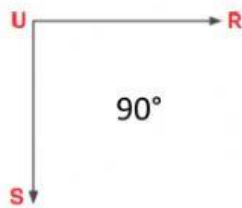


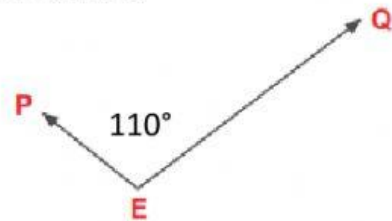
3. COMPLETA EN ESPACIOS LAS PARTES DE UN ÁNGULO.



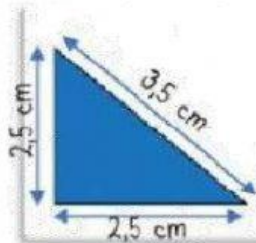
4. ESCRIBE, A QUÉ CLASE DE ÁNGULO CORRESPONDEN SEGÚN SU MEDIDA.



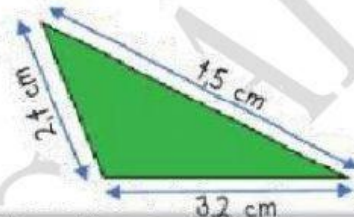




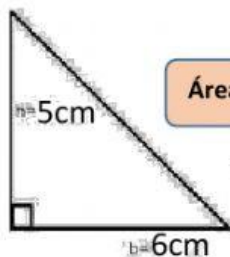
5. SELECCIONA EL NOMBRE DE CADA TRIÁNGULO SEGÚN LA MEDIDA DE SUS LADOS.



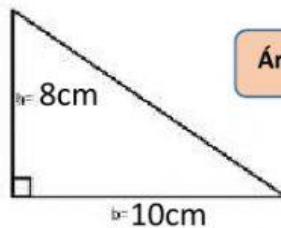




6. CALCULA EL ÁREA DE LOS SIGUIENTES TRIÁNGULOS:

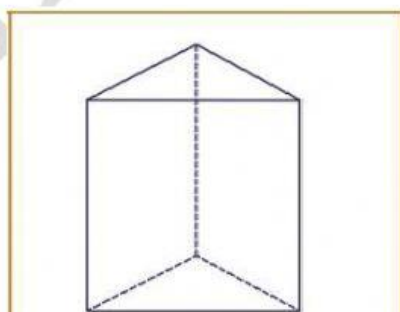


Área =



Área =

7. COMPLETA EL CUADRO.



Bases :	
Vértices:	
Aristas :	
Caras :	