
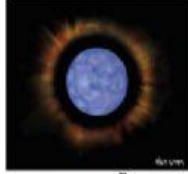


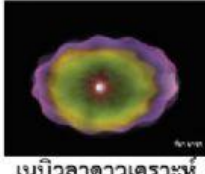
จากแผนภาพวิวัฒนาการของดาวฤกษ์ ให้นักเรียนนำรูปต่อไปนี้ไปใส่ในช่องว่างที่กำหนดให้




ดาวยักษ์ใหญ่น้ำเงิน



ดาวยักษ์น้ำเงิน



เนบิวลาดาวเคราะห์



ดาวยักษ์แดง



หลุมดำ



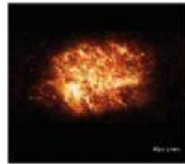
ดาวยักษ์ใหญ่น้ำเงิน



ซูเปอร์โนวา



ดาวฤกษ์คล้ายดวงอาทิตย์




ซูเปอร์โนวา



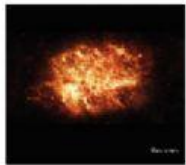
ดาวยักษ์แดง




ดาวแคระขาว




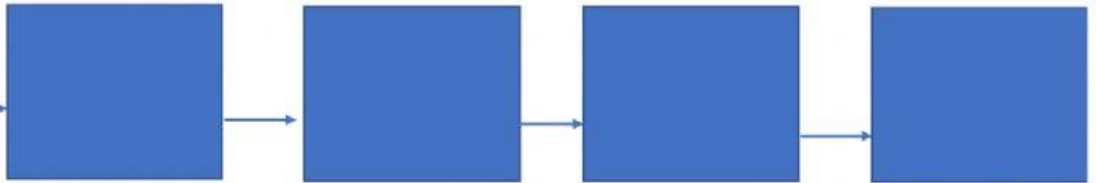
ดาวนิวตรอน




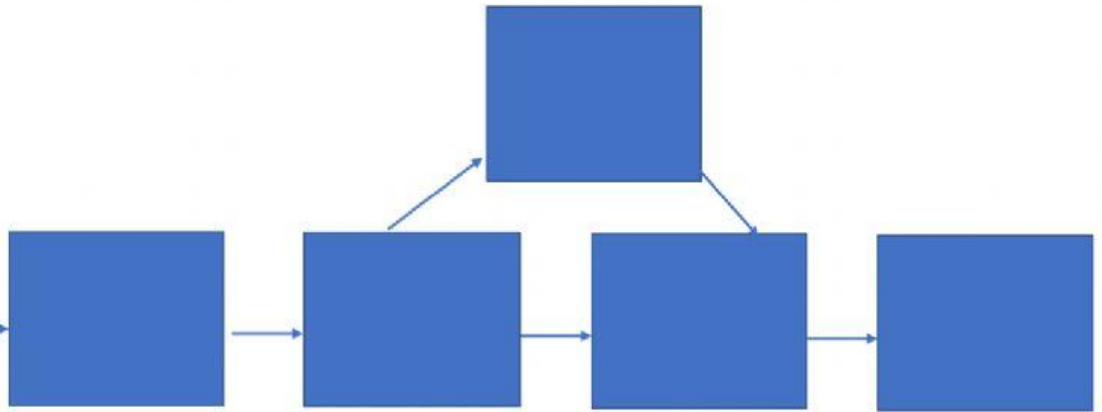
ซูเปอร์โนวา



$0.08M_{\odot} \leq M < 9M_{\odot}$



$9M_{\odot} \leq M < 25M_{\odot}$



$M \geq 25M_{\odot}$

sd



