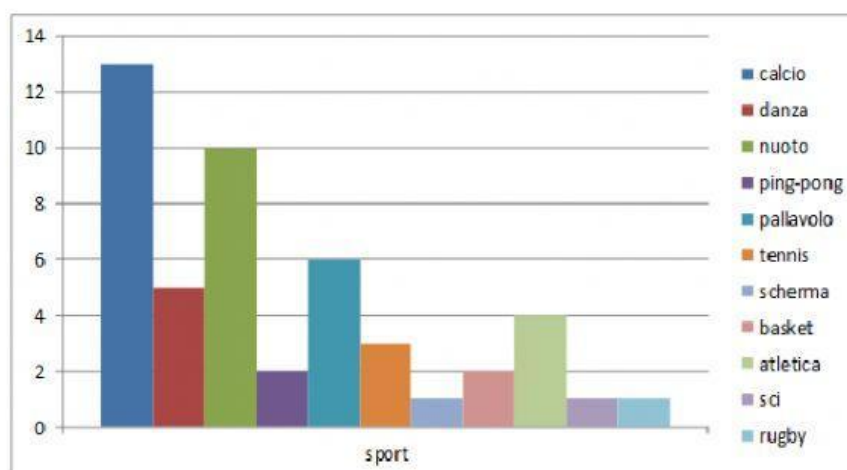


LEGGERE I GRAFICI

1) LO SPORT



La maggior parte dei ragazzi preferisce

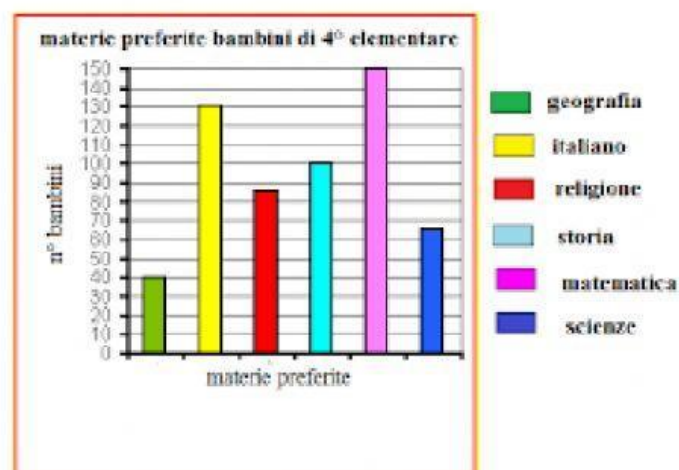
Quanti ragazzi fanno nuoto?

Ping pong e piacciono allo stesso numero di ragazzi

Tre sport piacciono a 1 solo ragazzo, quali sono?

Quanti ragazzi preferiscono pallavolo?

2) MATERIA PREFERITA

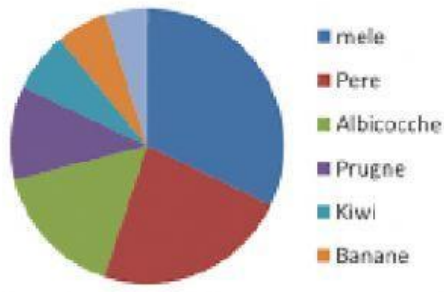


La maggior parte dei bambini preferisce

La materia che piace a meno bambini è

A quanti bambini piace italiano?

3) FRUTTA PREFERITA

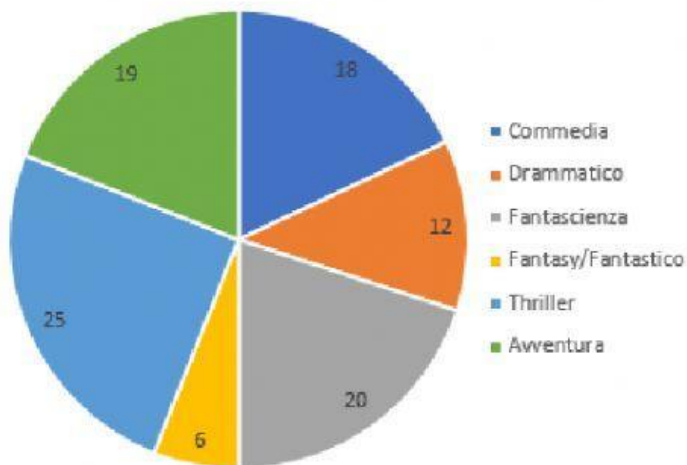


La maggior parte delle persone preferisce

Quali sono i tre frutti che piacciono di meno?

Da questo grafico possiamo capire a quante persone piacciono i kiwi?

4) GENERE DI FILM PREFERITO



I film drammatici piacciono al _____ %
(per cento) delle persone.

Alla maggior parte delle persone piacciono
i film di genere

I film che piacciono di meno sono i

Qual è il genere preferito dalle persone tra avventura e fantasy?