

Họ và tên: .....

Lớp: .....

**PHIẾU ÔN LỚP 1 – TUẦN 13 (13/12/2021 – 17/12/2021)**  
**MÔN: TOÁN**

**1. Tính :**

$3 + 3 = \dots$

$9 + 1 = \dots$



$6 + 3 + 0 = \dots$

$2 + 6 = \dots$

$4 + 3 = \dots$

$2 + 4 + 1 = \dots$

**2. Viết phép cộng thích hợp:**



$\dots + \dots = \dots$

$\dots + \dots = \dots$

**3. Sắp xếp các số 3, 0, 5, 9 theo thứ tự từ lớn đến bé:**

→ ..... ; ..... ; ..... ; .....

**4. Nối con vật phù hợp với vị trí:**

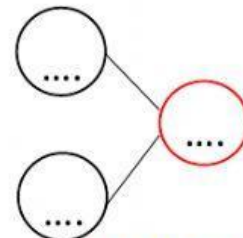
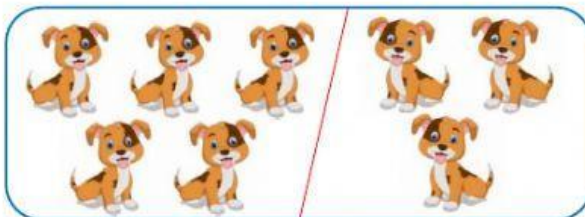


Bên trái

Bên phải

Ở giữa

**5. Hoàn thành sơ đồ tách gộp:**



## MÔN: TIẾNG VIỆT

### 1. Nối hình với từ ngữ thích hợp:



nhân sâm

cà tím

tắm rửa

quả bom

### 2. Nối ô chữ cho phù hợp:

Ngày Tết, cả nhà

ra đồng từ sáng sớm.

Chim sơn ca

hót véo von.

Bác nông dân

sum vầy bên nhau.

### 3. Điền vào chỗ trống:

a/ **ôm** hay **ơ**



ống b..... xe

b/ **ăm** hay **âm**



cơm t'.....

c/ **at** hay **ac**



h,..... giấy

### 4. Đọc đoạn văn sau và đánh dấu vào ô trả lời đúng:

Ngày nghỉ, bố mẹ đưa em về quê thăm ông bà. Nhà ông bà ở xa thị trấn. Phía sau nhà, có cây khế chín vàng, từng chùm lủng lẳng trên cây.

#### Trả lời câu hỏi:

1. Nhà ông bà ở đâu?

➔ Nhà ông bà ở .....

A. gần thị trấn

B. trong thị trấn

C. xa thị trấn

2. Nhà ông bà có cây gì?

➔ Nhà ông bà có cây .....

A. măng cụt

B. khế

C. cam