



AÑO ESCOLAR 2021 – IV BIMESTRE
EXAMEN BIMESTRAL DE MATEMÁTICA

Nombre del Estudiante:		Grado y Sección	2° "A"
Área:	Matemática	Fecha de evaluación:	12 /12 /2021
Nivel:	PRIMARIA	Nombre del Docente:	Gloria Rojas Torre

COMPETENCIA1	COMPETENCIA2	COMPETENCIA3	COMPETENCIA4
Calificativo	Calificativo	Calificativo	Calificativo

COMPETENCIA 1: RESUELVE PROBLEMAS DE CANTIDAD

1. En el bazar "Bueno y Barato", se vende osos de peluche a $\text{s}/28$. ¿Cuánto se pagará por una muñeca cuyo precio es la mitad de lo que cuesta el oso de peluche?

a). 56

b). 14

c). 16

2. Javier tiene $\text{s}/59$. ¿Cuánto le falta para comprar este pantalón?

a


$\text{s}/150$

b

$\text{s}/ 32$

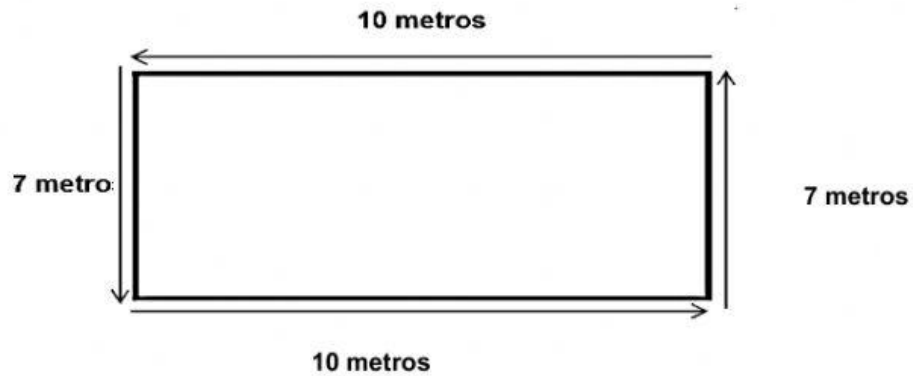
c

$\text{s}/91$



Precio
 $\text{s}/91$

3. Junior mide el borde de la cancha deportiva de su colegio y anota las medidas en un gráfico y luego se pregunta ¿Cuál es el perímetro de la cancha deportiva?



- ☐ a 8
- ☐ b 43
- ☐ c 13

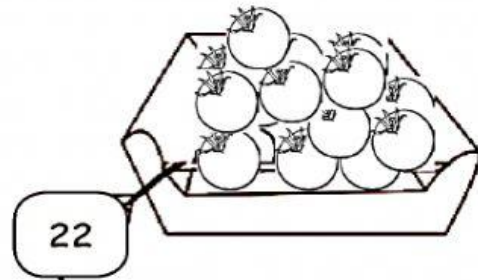
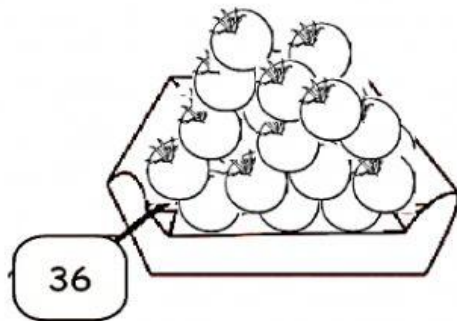
4. Un agricultor recoge 82 manzanas de cada árbol. ¿Cuántas manzanas recogerá de 4 árboles?

a). 248

b). 824

c). 328

5 Observa lo que una vendedora de tomates tenía:



La vendedora formó bolsas con solo 10 tomates en cada bolsa.
¿Cuántas bolsas formó y cuántos tomates sobraron?

- a) Formó 58 bolsas y no le sobraron tomates.
- b) Formó 5 bolsas y sobro 8 tomates
- c) Formó 50 bolsas y sobro 8 tomates

6. Observa el precio de cada juguete y responde: ¿Qué juguete tiene el doble de precio que los lentes



PELOTA
S/. 6,00



AUTO
S/. 16,00



TROMPO
S/. 4,00



LENTE
S/. 8,00

(a) La pelota

(b) El auto

(c) El trompo

7. Observa la imagen y responde

Hola, soy Luana
y tengo 8
figuritas



Hola, soy Britsi y
tengo el doble de
figuritas que tiene
Luana




¿Cuántas figuritas tiene Britsi?

a) 8 figuritas.

b) 16 figuritas.

c) 15 figuritas.

8. Tracy sirve 5 vasos con esta jarra de chicha. ¿Cuántas jarras de chicha necesita para servir 10 vasos?

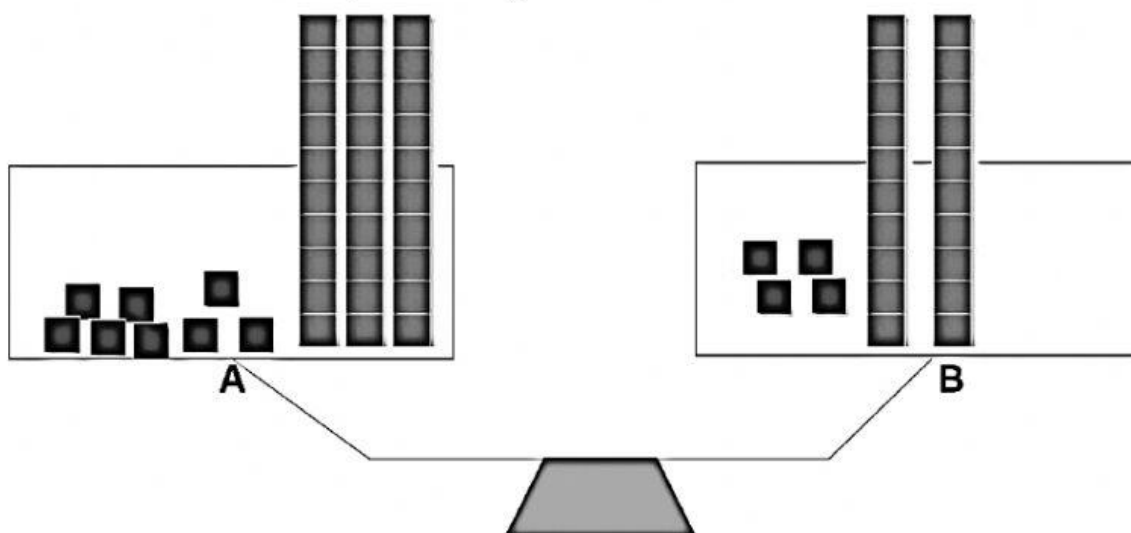


a). 5

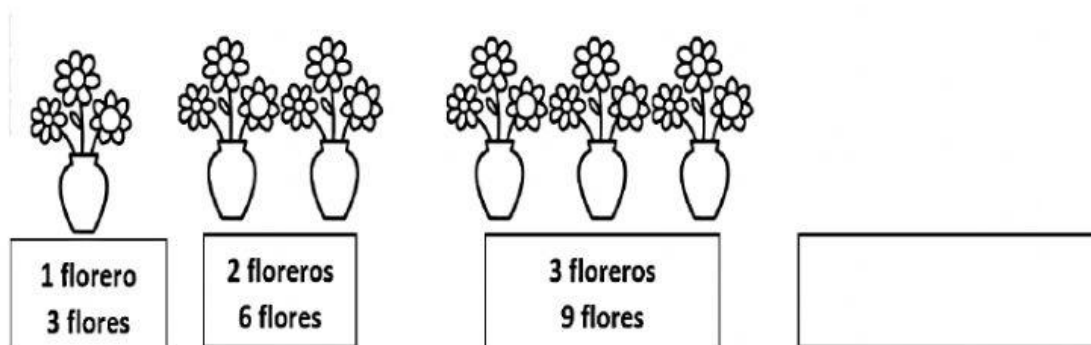
b). 10

c). 2

9. ¿Qué debe hacer Luis para que haya equilibrio en los platillos de la balanza?. Completa dibujando



10. Génesis debe colocar floreros y flores en un salón de fiesta, tal como indica el gráfico. Dibuja y responde ¿Cuántos floreros y flores colocará en el cuarto grupo?



¡Felicidades terminaste!



