



**AÑO ESCOLAR 2021 – IV BIMESTRE**  
**EXAMEN BIMESTRAL DE MATEMÁTICA**

Nombre del Estudiante:		Grado y Sección	2° "A"
Área:	MATEMÁTICA	Fecha de evaluación:	16 – 12 - 21
Nivel:	PRIMARIA	Nombre del Docente:	GLORIA ROJAS TORRE

**Resuelve problemas de cantidad**

**1. Observa:**

Flores compradas

	Clavel	Rosa
Rojo	18	32
Blanco	19	25

Según la tabla, ¿Cuántas flores rojas más que blancas se compraron?

- ☐ a 6 flores
- ☐ b 50 flores
- ☐ c 94 flores



2. Victoria tiene el doble de la cantidad de crayolas que hay en la caja.

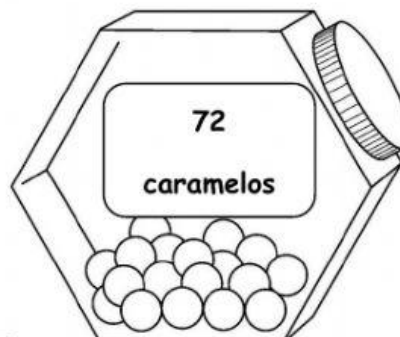


¿Cuántas crayolas tiene Victoria?

- ☐ a 12 crayolas.
- ☐ b 24 crayolas.
- ☐ c 36 crayolas.

3. Sandra guarda en un frasco 72 caramelos, 29 de estos son de fresa y los demás son de chicha. ¿Cuántos caramelos son de chicha?

- ☐ a 101 caramelos.
- ☐ b 43 caramelos.
- ☐ c 29 caramelos.





4. Miluska compró 29 manzanas. Por esta compra le regalaron algunas manzanas. Ahora Miluska tiene 35 manzanas. ¿Cuántas manzanas le regalaron a Miluska?

- ☐ a 64 manzanas.
- ☐ b 6 manzanas.
- ☐ c 35 manzanas.

5. Jhon tiene S/ 16 y su compañera Juanita S/28. ¿Cuántos soles más necesita Jhon para tener tantos como Juanita?

- ☐ a 12 soles.
- ☐ b 2 soles.
- ☐ c 44 soles

6. Marcela tiene 12 monedas y Raúl tiene 7. ¿Cuántas monedas debe de perder Marcela para tener la misma cantidad que Raúl?

- ☐ a 19 monedas.
- ☐ b 5 monedas.
- ☐ c 7 monedas.



7. Lee la lista de precios y responde: ¿Cuánto cuesta comprar dos tortas, 3 panes con chicharrón y un vaso de chicha?

a. S/. 25

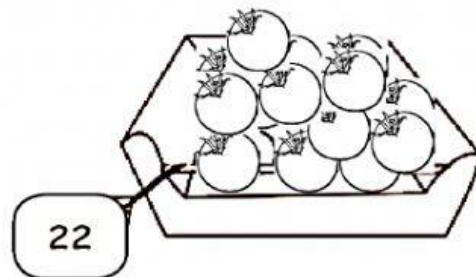
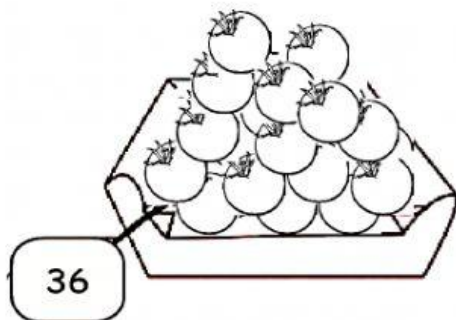
b. S/. 24

c. S/. 28

### Lista de precios

Torta.....	S/. 4
Mazamorra.....	S/. 2
Pan con chicharrón....	S/. 5
Pan con queso.....	S/. 3
Vaso de chicha.....	S/. 1

8. Observa lo que una vendedora de tomates tenía:



La vendedora formó bolsas con solo 10 tomates en cada bolsa.  
¿Cuántas bolsas formó y cuántos tomates sobraron?

- a) Formó 58 bolsas y no le sobraron tomates.
- b) Formó 5 bolsas y sobro 8 tomates
- c) Formó 50 bolsas y sobro 8 tomates





9. una araña tiene 8 patitas. ¿Cuántas patitas habrá en 5 arañas?

- ☐ a 15 patitas
- ☐ b 18 patitas
- ☐ c 40 patitas

10. En el bazar "Bueno y Barato", se vende osos de peluche a  $\frac{5}{28}$ .  
¿Cuánto se pagará por una muñeca cuyo precio es la mitad de lo que  
cuesta el oso de peluche?

a). 56

b). 14

c). 16

**¡Felicidades terminaste!**

