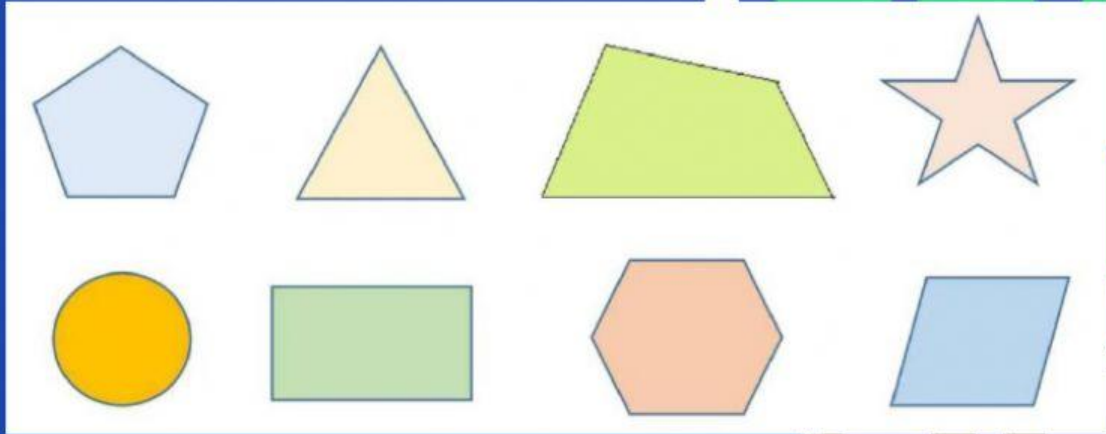
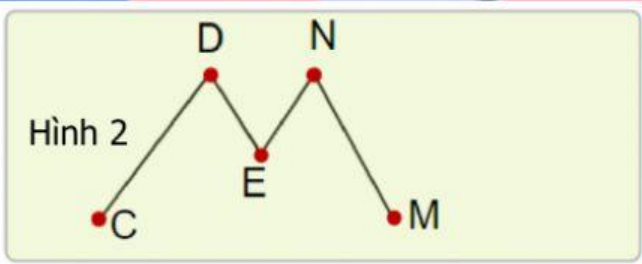
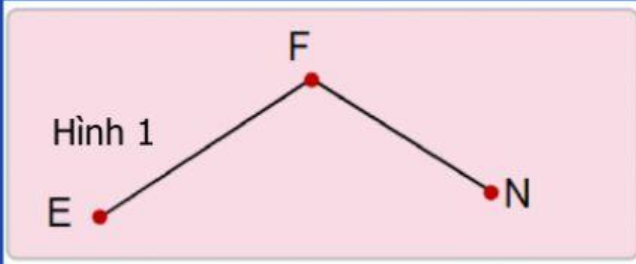


PHIẾU BÀI TẬP MÔN TOÁN LỚP 2 (tuần 15 Đường gấp khúc. Hình tứ giác

Bài 1. Khoanh vào các tứ giác



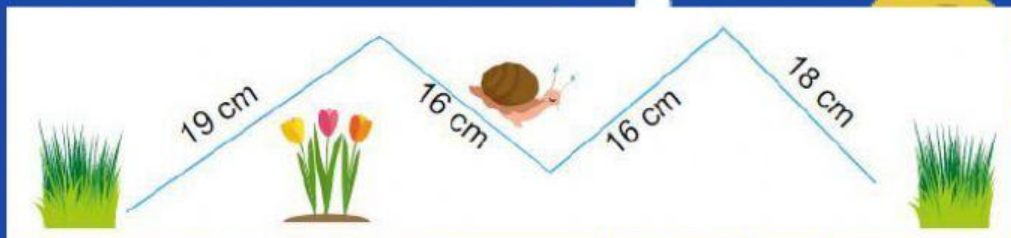
Bài 2. Điền vào chỗ chấm



Hình 1 là đường gấp khúc ... có ... đoạn thẳng là: ...

Hình 2 là đường gấp khúc ... có ... đoạn thẳng là: ...

Bài 3. Chú ốc sên bò từ khóm cỏ bên trái đến khóm cỏ bên phải. Hỏi chú ốc sên phải bò quãng đường dài bao nhiêu xăng – ti – mét?



.....

.....

Đáp số:.....