

# 2

## 基本运算

2 的连加法    5 的连加法  
10 的连加法    4 的连加法

1 年级  
数学

课堂  
评估

# 4

MATEMATIK PBD


姓名: \_\_\_\_\_ 班级: \_\_\_\_\_ 日期: \_\_\_\_\_

(课本上册第 105 至第 108 页)

### 2 的连加法

在空格里填写正确的答案。 TP3

1



共有多少个人?

$2 + 2 + 2 = \square$

### 5 的连加法

画线连一连。 TP3


2

1.



$5 + 5 + 5 + 5 = 20$

2.




$5 + 5 + 5 = 15$

SP 2.5.1	写出两个两个、五个五个、十个十个和四个四个地加的算式	掌握 ( )	尚未掌握 ( )
SP 2.5.1	写出两个两个、五个五个、十个十个和四个四个地加的算式	掌握 ( )	尚未掌握 ( )

### 10 的连加法

根据数轴，写出加法算式。 TP3

4



$$\square + \square + \square = \square$$

### 4 的连加法

计算下列各题。 TP3

2

1

$$\begin{array}{r} 4 \\ + 4 \\ \hline \square \end{array}$$

$$\begin{array}{r} 4 \\ + 4 \\ \hline \square \end{array}$$

$$\begin{array}{r} 4 \\ + 4 \\ \hline \square \end{array}$$

2

$$\begin{array}{r} 4 \\ + 4 \\ \hline \square \end{array}$$

$$\begin{array}{r} 4 \\ + 4 \\ \hline \square \end{array}$$

$$\begin{array}{r} 4 \\ + 4 \\ \hline \square \end{array}$$

$$\begin{array}{r} 4 \\ + 4 \\ \hline \square \end{array}$$

SP 2.5.1	写出两个两个、五个五个、十个十个和四个四个地加的算式	掌握 ( )	尚未掌握 ( )
SP 2.5.1	写出两个两个、五个五个、十个十个和四个四个地加的算式	掌握 ( )	尚未掌握 ( )

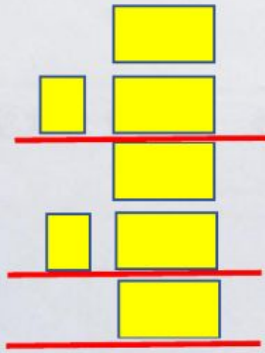


### 10 的连减法

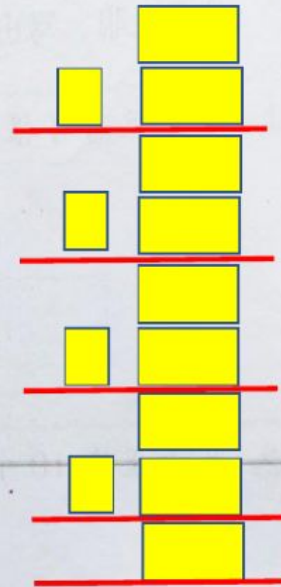
2

用竖式计算下列各题。 TP3

1.  $20 - 10 - 10 =$



2.  $40 - 10 - 10 - 10 - 10 =$



### 4 的连减法

2

圈出代表正确答案的字母。 TP3

1. 20 张书签，每组学生拿 4 张，够分给 5 组学生吗？

- A 够
- B 不够

2. 黄老师把 24 个笔盒分给了 4 组学生。每组学生获得了多少个笔盒？

- A 5
- B 6

SP 2.6.1	写出两个两个，五个五个，十个十个和四个四个地减的算式	掌握 ( )	尚未掌握 ( )
SP 2.6.1	写出两个两个，五个五个，十个十个和四个四个地减的算式	掌握 ( )	尚未掌握 ( )