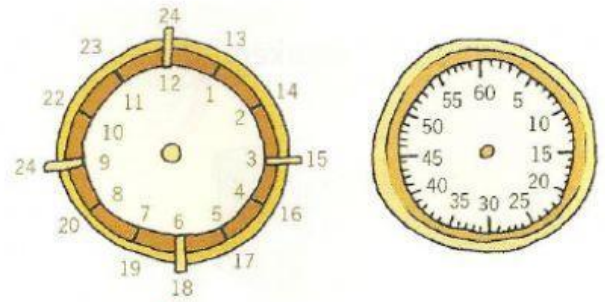


# ORDUAK ETA MINUTUAK

Egun batetik beherako denbora tartetarik neurtzeko ordua eta minutuak erabiltzen dugu.

Orduaren ikurra h da; eta minutuena, min.



$$1 \text{ ordu} = 60 \text{ minutu}$$

$$1 \text{ h} = 60 \text{ min}$$

1 Erreparatu adibideari, eta osatu.

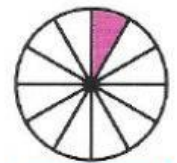
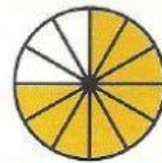
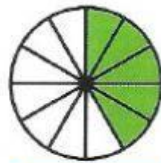
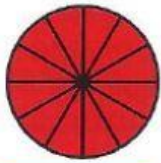
$$1 \text{ ordu} = 1 \times 60 \text{ minutu} = 60 \text{ minutu}$$

$$3 \text{ ordu} = \dots \text{ minutu}$$

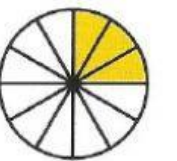
$$9 \text{ ordu} = \dots \text{ minutu}$$

$$5 \text{ ordu} = \dots \text{ minutu}$$

2 Irudi bakoitzeko zati koloreztatuak, zenbat minutu adierazten ditu?



3 Zenbat minutu falta dira hirurogei minutura iristeko?



4 Ariane 1 ordu eta 45 minutu egon da etxetik kanpo. Zenbat minutu egon da kanpoan?

minutu egon da kanpoan.