


# PRÁCTICA DE MATEMÁTICA – 3 AÑOS


1) Cuenta los objetos y une con el número que corresponden.




• 1



• 2



• 7




• 6



• 4



• 5



• 3

**Ayuda a Sofía a encontrar los números que faltan.**

**Selecciona el numeral que falta en el recuadro en blanco.**



5

7

1

3

4

6

3

5

SELECCIONA LA RESPUESTA CORRECTA

$2 + 2 = \square$

- 4
- 2
- 5

$3 + 2 = \square$

- 0
- 1
- 5