

EVALUACION 4 to BIMESTRE - CIENCIA Y TECNOLOGIA

Nombre: _____ Grado: 2do Fecha: 14/12/21

1.- Coloca la basura en el contenedor que corresponde:

Plástico - Cartón - Vidrio
Papel - Metales

2.- Completa las frases. Arrastrando las palabras clave donde corresponda.

Hàbitat

Desierto

Bosque

Acuático

Selva

A.- El _____ es el lugar donde los animales obtienen todo lo que necesitan para vivir.

B.- Como ejemplo de hábitat terrestre tenemos:




3.- Escribe **F** si la afirmación es falsa o **V** si es verdadera:

a.- El hábitat más adecuado para un león es la selva. ☐

b.- El hábitat adecuado para el oso de anteojos es el desierto. ☐

c.- Un hábitat puede ser tan grande como un bosque o tan pequeño como la rama de árbol. ☐

4.- Clasifica los siguientes animales según su hábitat.

		
Hábitat terrestre	Hábitat acuático	Hábitat aeroterrestre



4.- Selecciona la respuesta según la imagen que representa Tsunami.



5.- Selecciona la respuesta según la imagen que representa Terremoto



6.- Selecciona la respuesta según la imagen que representa Inundación



7.- Selecciona las acciones que contribuyen al medio ambiente



8.- De las siguientes imágenes identifique que animales están en peligro de extinción



Cóndor Andino



Perros



Mono choro de cola amarilla



Oso de anteojos



La rana gigante del Titicaca



Lagartija verde alargada