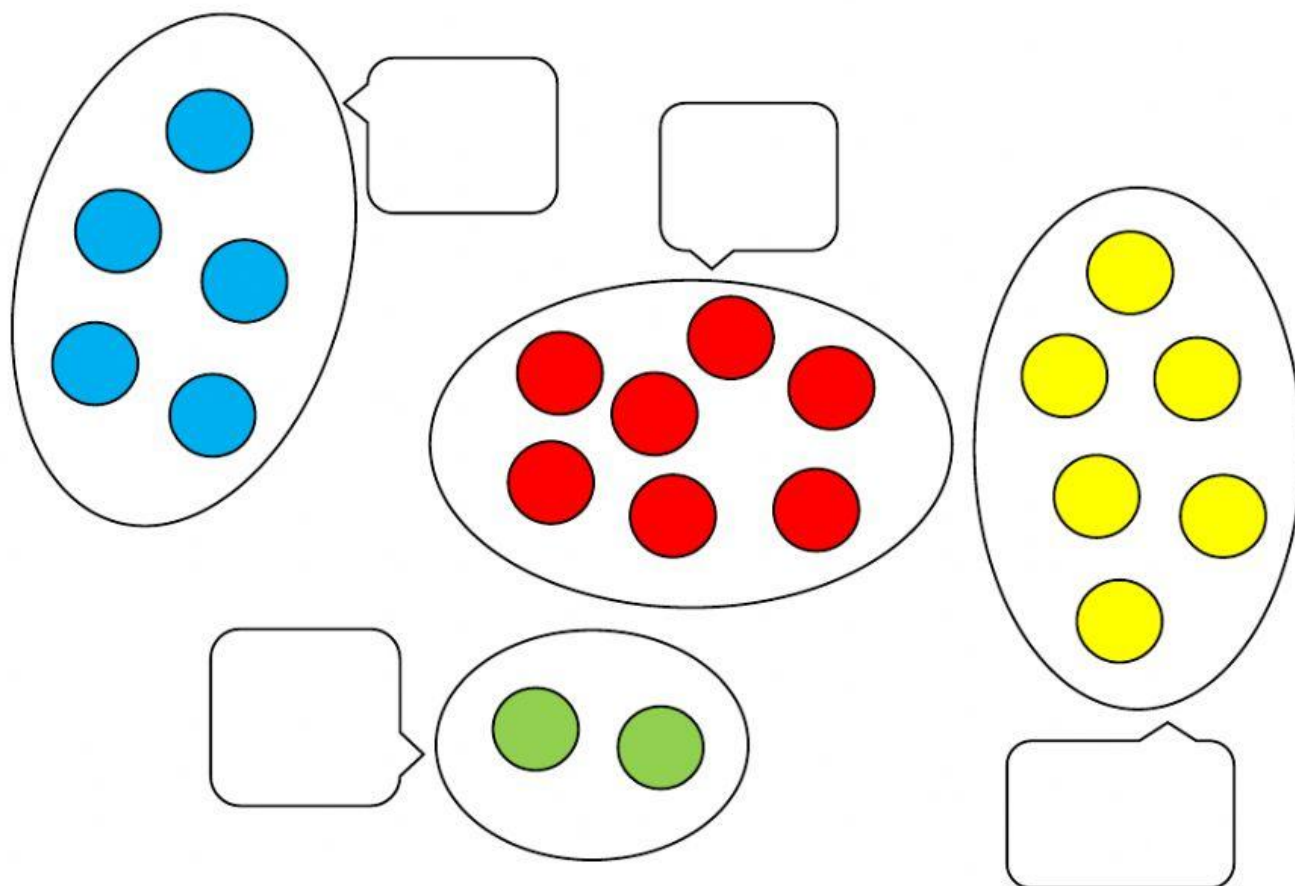


1.- Escriu els nombres del 1 al 10.

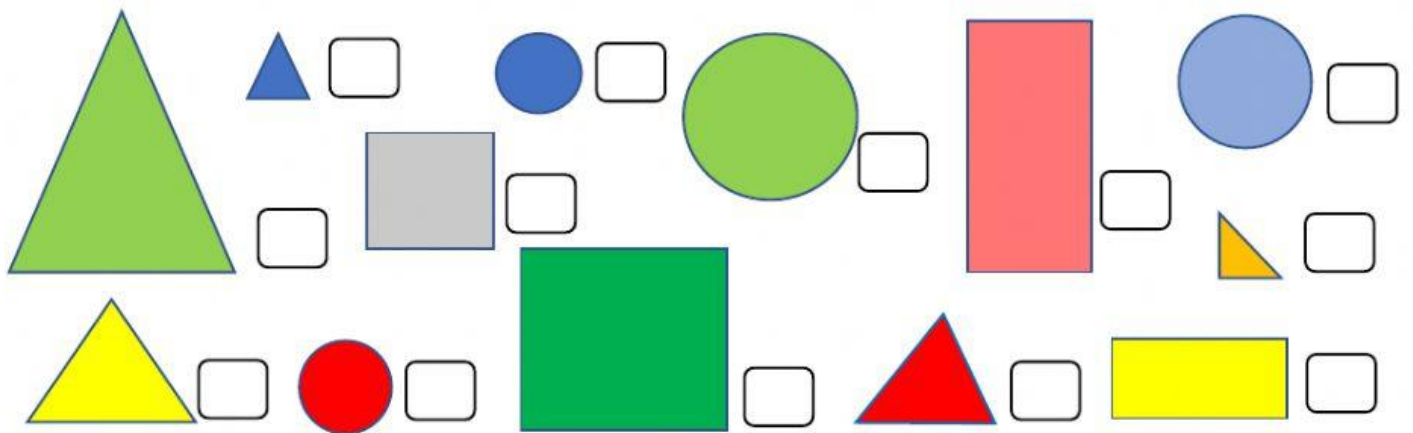
2.- Compta i escriu quantes boles hi ha



3.- Completa amb els nombres que falten

<input type="text"/>	2	<input type="text"/>	4	<input type="text"/>
6	7	<input type="text"/>	<input type="text"/>	10

4.- Fes una creu al costat dels triangles



5.- Calcula les sumes





$$\boxed{2} + \boxed{1} = \boxed{}$$

$$\boxed{3} + \boxed{2} = \boxed{}$$

$$\boxed{4} + \boxed{2} = \boxed{}$$

$$\boxed{5} + \boxed{3} = \boxed{}$$

6.- Escriu el nombre de les figures que falten

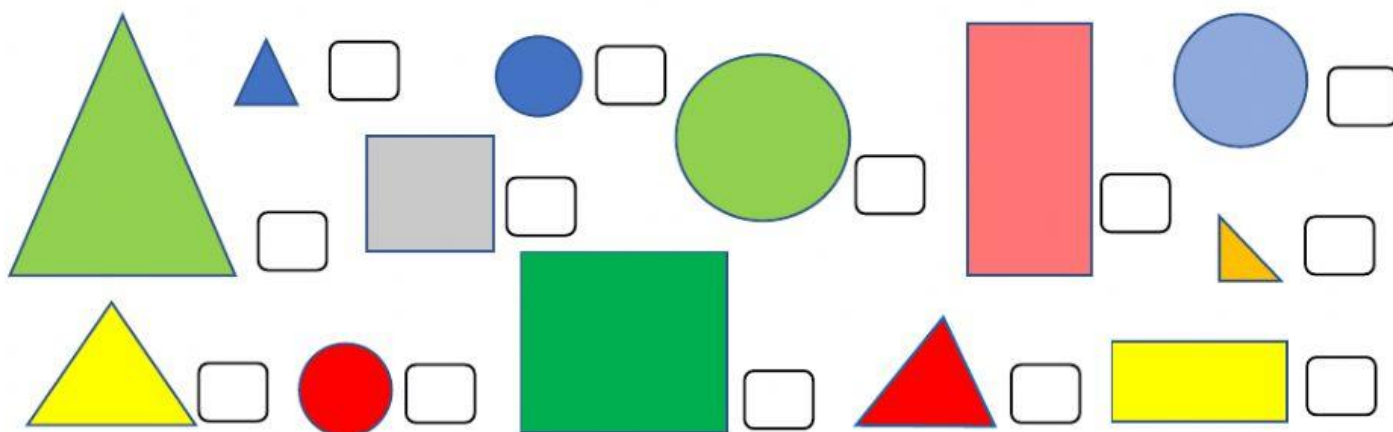


7.- Escriu els nombres ordenats de gran a petit

3 8 10 4 1 2 7 5 6 9

--	--	--	--	--	--	--	--	--	--	--

8.- Marca amb una creu les figures petites



9.- Marca amb una creu el gos que és darrera







10.- Encercla on hi ha poques i ratlla on hi ha moltes

<input type="checkbox"/>	<input type="checkbox"/>	<input type="checkbox"/>	<input type="checkbox"/>

11.- Marca la sèrie que sigui correcta

	<input type="checkbox"/>
	<input type="checkbox"/>
	<input type="checkbox"/>
	<input type="checkbox"/>
	<input type="checkbox"/>


12.- Fixa't en els dibuixos i escriu el nombre que falta. Fes les operacions dessota.


			
$\square + \square = \square$	$\square + \square = \square$	$\square + \square = \square$	$\square + \square = \square$


13.- Quan ha costat cada cosa?


		<input style="width: 80%; height: 40%;" type="text"/>
		<input style="width: 80%; height: 40%;" type="text"/>
		<input style="width: 80%; height: 40%;" type="text"/>
		<input style="width: 80%; height: 40%;" type="text"/>


14.- Fes la suma dels daus


$$\begin{array}{|c|} \hline \bullet \bullet \\ \hline \end{array} + \begin{array}{|c|} \hline \bullet \bullet \bullet \bullet \\ \hline \end{array} =$$


$$\begin{array}{|c|} \hline \bullet \bullet \\ \hline \end{array} + \begin{array}{|c|} \hline \bullet \bullet \\ \hline \end{array} =$$


$$= \begin{array}{|c|} \hline \bullet \bullet \\ \hline \end{array} + \begin{array}{|c|} \hline \bullet \bullet \\ \hline \end{array}$$


$$\begin{array}{|c|} \hline \bullet \bullet \\ \hline \end{array} + \begin{array}{|c|} \hline \bullet \\ \hline \end{array} =$$


$$= \begin{array}{|c|} \hline \bullet \bullet \\ \hline \end{array} + \begin{array}{|c|} \hline \bullet \bullet \\ \hline \end{array}$$

15.- Resol els problemes:

Si tens 2 cotxes i te'n donen un altre, quants cotxes tindràs?

Tens 3 pilotes i li dones una al teu amic, quantes et queden?

Tinc 3 nines però se m'han trencat dues, quantes me'n queden?

Tu tens 2 cireres i jo en tinc una, quantes cireres tenim entre els dos?

Si tens 3 avellanes i en dones una, quantes te'n quedaran?