

EXAMEN DE SOCIALES TEMA 2. LA REPRESENTACIÓN DE LA TIERRA.

1. Arrastra el nombre de estas representaciones de la tierra.



Mapa de carreteras

Planisferio físico



Bola de cristal

Mapa de población



Planisferio político

Globo terráqueo

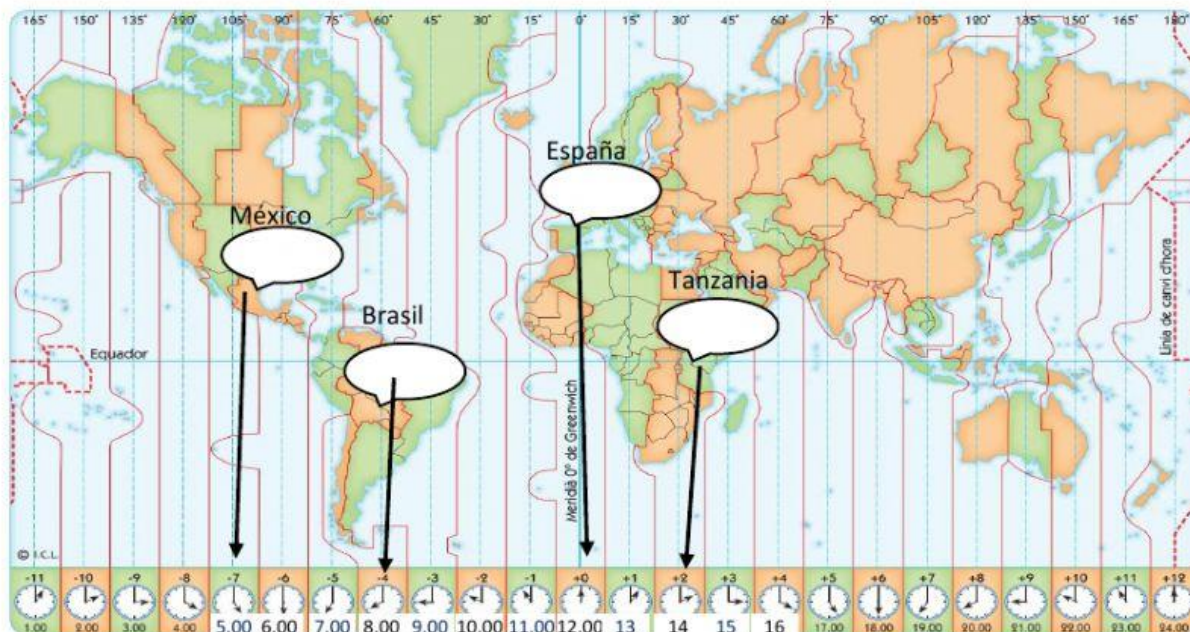
2. Indica las afirmaciones verdaderas.

- ☐ Los planisferios físicos muestran las características físicas de la tierra.
- ☐ La tierra solo se puede representar completamente en un globo terráqueo.
- ☐ En un planisferios salen todas las islas del mundo. Las grandes y las pequeñas.
- ☐ En los planisferios políticos aparecen fronteras, capitales y ciudades.

3. Completa estas frases con la palabra adecuada.

- Los son círculos imaginarios que dividen la esfera terrestre.
- Los son semicírculos imaginarios que van del polo norte al polo sur.

4. Escribe la hora en cada uno de los países que aparecen.



Si en España son las 12.00 ¿Cuántas horas de diferencia hay en México?

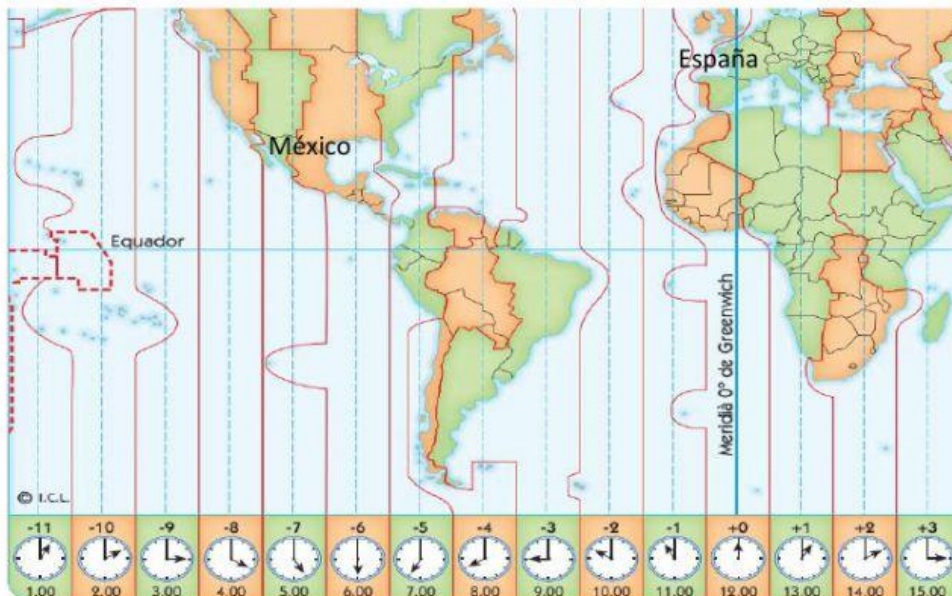
5. Elige la respuesta correcta.

- El paralelo principal es el de o paralelo 0°.
- El meridiano principal es el de o meridiano 0°.
- En el hemisferio sur también es importante el trópico de
- En el hemisferio norte también es importante el trópico de
- En los polos también encontramos el Círculo Polar y el Círculo Polar

6. ¿En cuántos husos horarios se divide La Tierra? Elige la respuesta correcta.

- A. En 15, como los grados que tiene cada huso.
- B. En 24, uno por cada hora.
- C. En unos 200, uno por cada país.
- D. En 360, uno por cada grado que tiene la tierra.

7. Si viajas desde España a México. ¿Adelantas o atrasas la hora de tu reloj?



Adelantas

Atrasas

8. Escribe debajo de cada planisferio si es físico o político.





Contesta verdadero o falso.

- ☐ En el planisferio político vemos los ríos y las montañas.
- ☐ En el planisferio físico vemos los ríos y las montañas.
- ☐ En el planisferio político salen las fronteras y los países.
- ☐ En el planisferio físico salen las fronteras, las banderas de los países.


9. ¿Qué le falta a este mapa? Elige las respuestas correctas.



- ☐ La escala
- ☐ Los husos horarios
- ☐ Los paralelos y los meridianos
- ☐ La leyenda con los signos

Este es un mapa

10. ¿A qué mapa crees que pertenecen estas leyendas? Une con flechas.



Mapa de carreteras

Mapa climático

Mapa de población