




## EVALUACIÓN DE INGRESO SEGUNDO DE EDUCACIÓN BÁSICA

### ASIGNATURA: MATEMÁTICAS

1. Elige. ¿Qué lugar ocupa cada vagón?



2. Relaciona cada forma geométrica con el objeto correspondiente.



3. Realiza las siguientes operaciones.

$$\begin{array}{r} 26 \\ + 31 \\ \hline \end{array}$$


$$\begin{array}{r} 64 \\ - 12 \\ \hline \end{array}$$



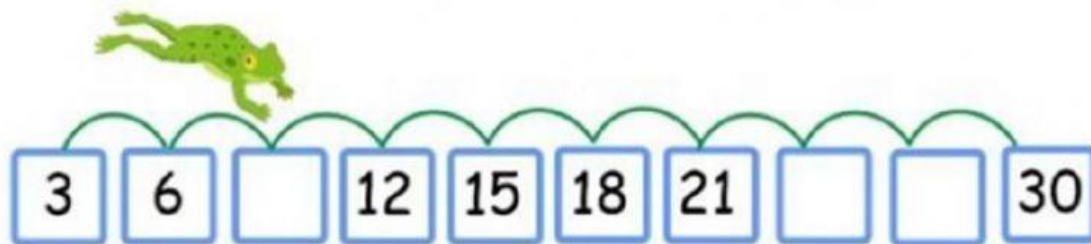
Escuela de Educación Básica Particular "JUAN MARTIN MOYE"  
HERMANAS DE LA PROVIDENCIA Y DE LA INMACULADA CONCEPCIÓN

*"Nada hay más importante que la educación de la niñez y la juventud, pues de ello depende el futuro"*

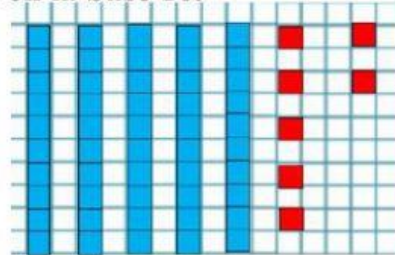
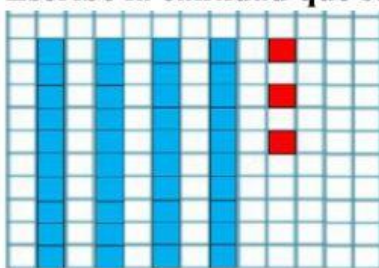
4. Selecciona donde hay un monto de abejas.



5. Anota los números que faltan.



6. Escribe la cantidad que se representa en la base 10.



7. Dictado

\_\_\_\_\_

8. Escribe los números que hay antes y después de los que se indican.

	17	
--	----	--

	49	
--	----	--

	85	
--	----	--

	98	
--	----	--

	77	
--	----	--

	57	
--	----	--

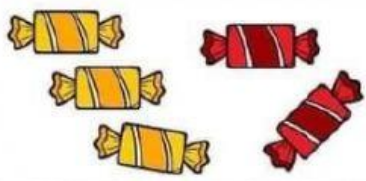

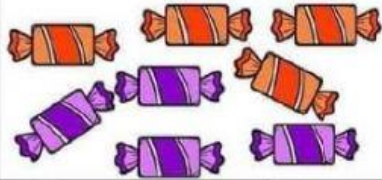



Escuela de Educación Básica Particular "JUAN MARTIN MOYE"


HERMANAS DE LA PROVIDENCIA Y DE LA INMACULADA CONCEPCIÓN






*"Nada hay más importante que la educación de la niñez y la juventud, pues de ello depende el futuro"*

9. Selecciona la operación correcta.

					
3+3	3+2	0+7	5+5	2+5	4+0
					
3+5	8+1	4+4	1+6	2+2	7+1

10. Observa la imagen, cuenta los dibujos y escribe el número correspondiente en cada casillero.



				
<input type="text"/>	<input type="text"/>	<input type="text"/>	<input type="text"/>	<input type="text"/>