



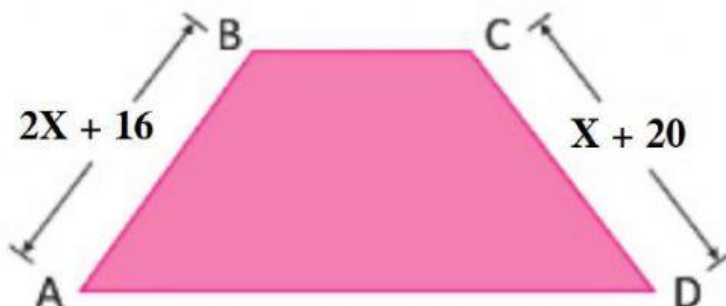
EXAMEN BIMESTRAL DE GEOMETRÍA

INSTITUCIÓN EDUCATIVA PRIVADA
"SEMILLITAS DE VIDA"

PROFESORA: AILY MELISSA GUTARRA BONIFAZ



1. TRAPECIO ISÓSCELES: (Halla "x" y marca la respuesta correcta)



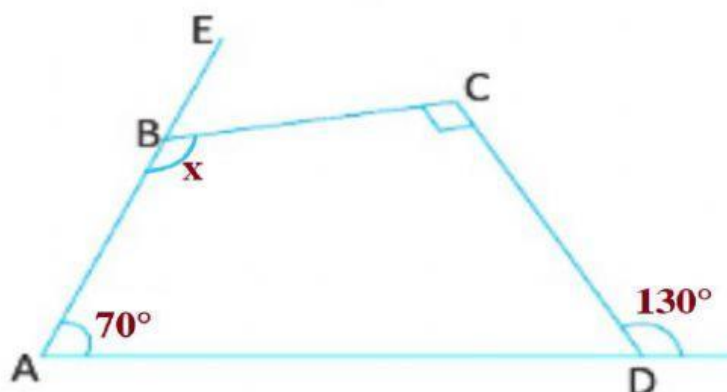
36

4

3x

-4

2. SUMA DE ÁNGULOS INTERIORES DE UN CUADRILÁTERO: (Halla "x" y marca la respuesta correcta)



70°

140°

90°

150°

3. ÁNGULOS OPUESTOS DE UN PARALELOGRAMO: (Halla "x" y marca la respuesta correcta)



27°

140°

130°

175°

POFESORA: AILY MELISSA GUTARRA BONIFAZ

4. ÁNGULOS CONSECUTIVOS DE UN PARALELOGRAMO: (Halla "x" y marca la respuesta correcta)



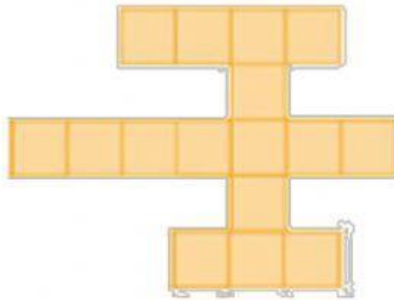
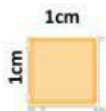
50°

30°

90°

10°

5. ÁREA DE UNA FIGURA (Marca la alternativa correcta)



34 cm^2

16 cm^2

68 cm^2

170 cm^2

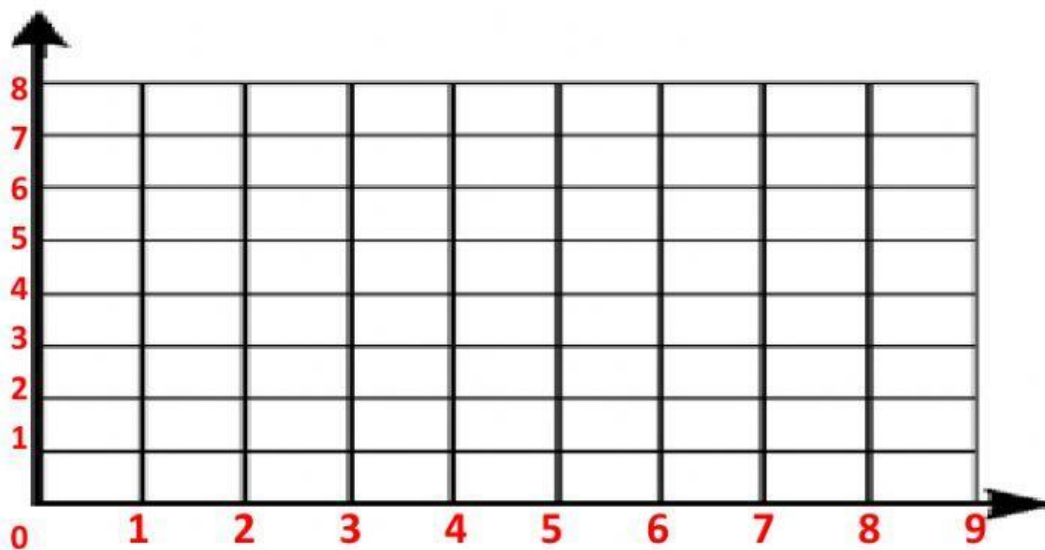
6. UBICA PUNTOS EN EL PLANO CARTESIANO: (Ubica los puntos en el plano cartesiano)

$A = (2 ; 0)$

$B = (5 ; 0)$

$C = (0 ; 2)$

$D = (0 ; 5)$



POFESORA: AILY MELISSA GUTARRA BONIFAZ