



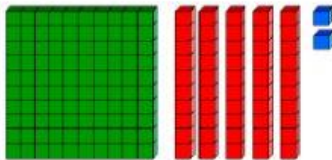
EVALUACIÓN DE ASPIRANTES A TERCERO

Asignatura: MATEMATICA

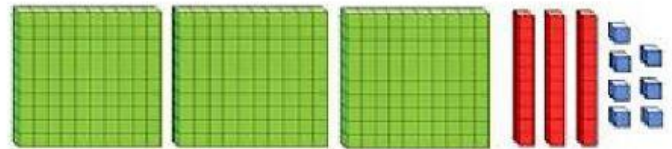
1.- Lee y escribe el número correcto.

Doscientos cuarenta y dos			
Trescientos cincuenta y cuatro			
Cuatrocientos ochenta y uno			
Quinientos veintidós			

2.- Señala con una X la nube donde este el número correcto que representa la base 10

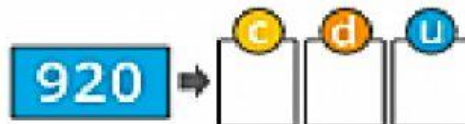


- ☐ 142
- ☐ 152
- ☐ 155



- ☐ 337
- ☐ 217
- ☐ 173

3.- Rellena los cuadros con las unidades, decenas y centenas.



4.- Resuelve las siguientes operaciones.

$$\begin{array}{r} 347 \\ - 123 \\ \hline \end{array}$$

$$\begin{array}{r} 563 \\ + 132 \\ \hline \end{array}$$



Escuela de Educación Básica Particular "JUAN MARTIN MOYE"
HERMANAS DE LA PROVIDENCIA Y DE LA INMACULADA CONCEPCIÓN
Año Lectivo 2021-2022

5.- Coloca el signo correcto.

190		240
283		124
145		453
429		429

> < =

6.- Relaciona las figuras geométricas con su nombre.



Cuadrado

Rectángulo

Círculo

Triángulo

7.- Pon V si es verdadero o F si es falso a las siguientes afirmaciones de los números ordinales.

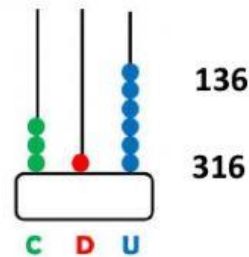
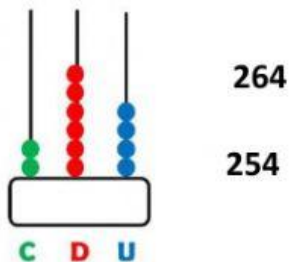


☐ El gato ocupa el cuarto puesto

☐ El perro se encuentra en segundo lugar

☐ El conejo es el tercero

8.- Selecciona el número que representa a cada ábaco.



9.- Escoge la respuesta correcta a los problemas.

- a. En una granja hay 203 gallinas y 127 conejos. ¿Cuántos animales hay en total?




Escuela de Educación Básica Particular "JUAN MARTIN MOYE"
HERMANAS DE LA PROVIDENCIA Y DE LA INMACULADA CONCEPCIÓN
Año Lectivo 2021-2022

	310
--	-----

	330
--	-----


10.- Coloca los números donde corresponda para completar la serie.

		861	
---	--	-----	--


1 411,412

			893
---	--	--	-----

2 860,862

	410		
---	-----	--	--

3 891,892

	549		551
---	-----	--	-----

4 550