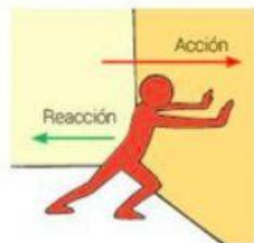
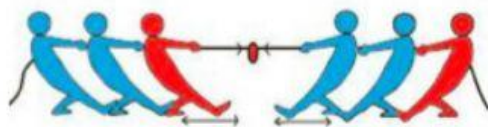


Selecciona la respuesta correcta, cual Ley de Newton corresponde para cada caso:

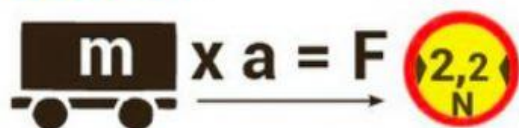
o Ley de acción y reacción.



Inercia



Fuerza $F=ma$



$$F = m * a$$

$$F = -R$$

$$\Sigma F = 0$$

 LIVEWORKSHEETS