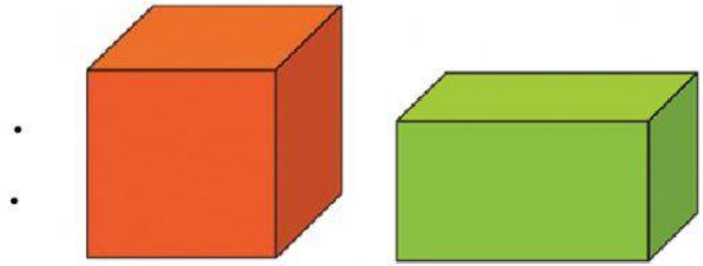


TOÁN

Vị trí, định hướng trong không gian (TIẾT 2)

Bài 1:

- a) Bên trái là
b) Bên phải là



Bài 2: Chọn từ thích hợp:



- a) Từ trái sang phải, hình tam giác ở vị trí
b) Từ phải sang trái, hình ở vị trí thứ ba là

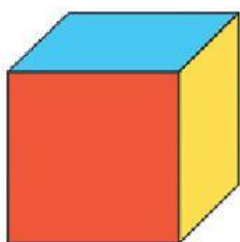
Bài 3:



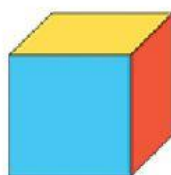
- a) Nêu tên các hình theo thứ tự từ trái sang phải:

b) Hình nằm ở giữa hình tam giác và hình tròn.

Bài 4: Ở khối lập phương A: mặt trước tô màu đỏ, mặt trên tô màu xanh, mặt bên phải tô màu vàng.



A



B

Ở khối lập phương B:

- a. Mặt trước tô màu
b. Mặt trên tô màu
c. Mặt bên phải tô màu