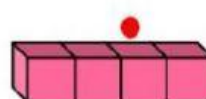

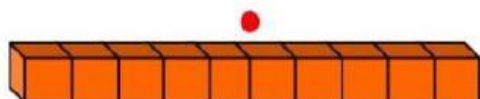
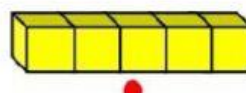
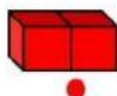
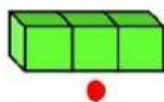


DEMUESTRA LO APRENDIDO

2. Une cada regleta con su doble:



3. Observa:



¿Cuántas naranjas tiene Milagros?

a) 16 naranjas.

b) 18 naranjas.


c) 9 naranjas

Con operación:

D	U
-	
-	

+

1. Observa la cantidad de manzanas que hay afuera. Si en la canasta hay el **doble** ¿Cuántas manzanas hay en la canasta?



a) 4 manzanas.

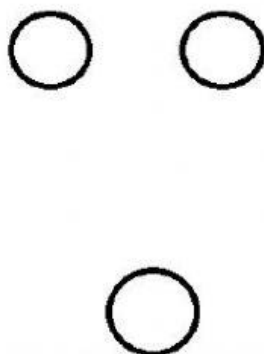
b) 8 manzanas.

c) 12 manzanas.

Con chapitas

----- + ----- = -----


Con regleta de colores



Operación

D	U
-	
-	

+



Respuesta:

.....

