


REPASO UNIDAD DIDÁCTICA 7

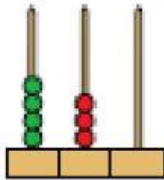
Completa.



4 C + \square D + \square U

cuatrocientos

400 + \square + \square = \square



\square C + \square D

\square + \square = \square

Lee y rodea el número mayor de cada pareja.



Compara la cifra de las centenas.

402

199

276

385




Las centenas son iguales. Compara la cifra de las decenas.

431

367

428

380



Las centenas y las decenas son iguales. Compara la cifra de las unidades.


476

391

472

394

Cuenta y completa.



Suma \triangleright 5 + 5 + 5 = \square

Multiplicación \triangleright 5 \times \square = \square

5 por \square es igual a \square



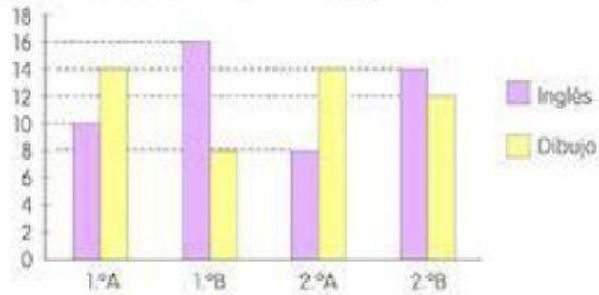
Suma \triangleright 2 + \square + \square + \square = \square

Multiplicación \triangleright \square \times \square = \square

\square por \square es igual a \square

Interpretación de gráficos de barras

El gráfico muestra las actividades extraescolares de los niños de 1º y 2º de Primaria. Completa la tabla con los datos del gráfico.



	1.º A	1.ºB	2.ºA	2.ºB
Inglés	10			
Dibujo				