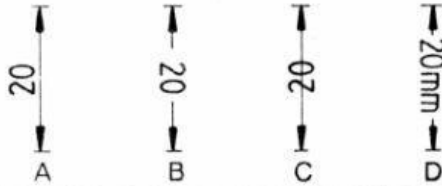
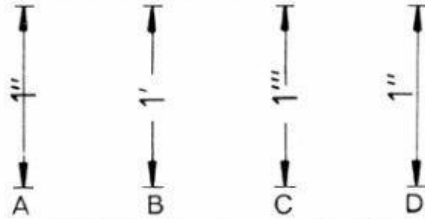


Piezas rectilíneas planas en una vista

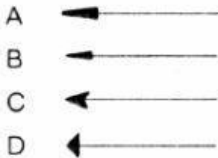
1. ¿Qué acotación es según la norma?



2. ¿Qué acotación es según la norma?



3. ¿Qué flecha es según la norma?



4. ¿Cuál de las afirmaciones sobre flechas es correcta?

- A Las flechas deben indicarse sólo en dibujos a lápiz.
- B Las flechas abarcan un ángulo de 25°.
- C Las flechas indican el final de las líneas de cota.
- D Las flechas pueden dibujarse como se desee.

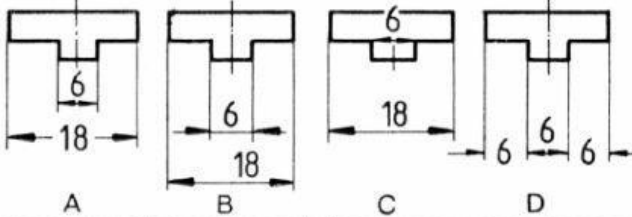
5. ¿Qué distancia mínima debe haber entre el borde y las líneas de cota?

- A 8 mm
- B 10 mm
- C 12 mm
- D 14 mm

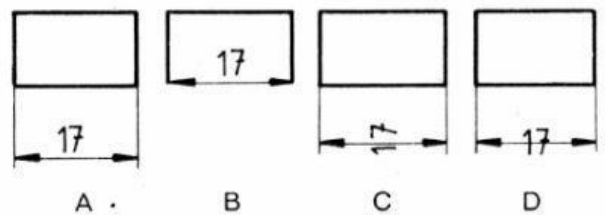
6. Las líneas de cota deben tener entre sí una distancia mínima de

- A 10 mm
- B 9 mm
- C 8 mm
- D 7 mm

7. ¿En qué representación es la acotación según la norma?

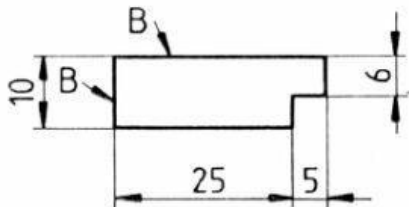


8. ¿Qué acotación es según la norma?



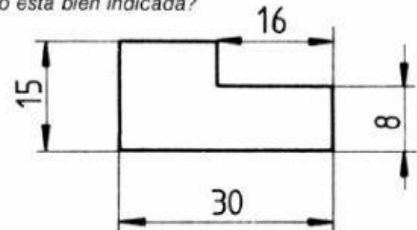
9. ¿Qué cota no parte de la arista de referencia (B)?

- A 10
- B 6
- C 5
- D 25



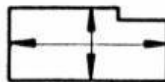
10. ¿Qué cota no está bien indicada?

- A 10
- B 16
- C 17
- D 30



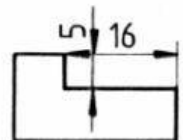
11. ¿Qué regla ha sido aquí violada?

- A Líneas de cota no deben cruzarse.
- B Líneas de cota deben interrumpirse en el punto de corte.
- C Líneas de cota deben trazarse sólo junto a líneas auxiliares.
- D Líneas de cota no se cortan justo en el medio.



12. ¿Qué afirmación es correcta?

- A La acotación 5 es según la norma.
- B La acotación 16 es según la norma.
- C Las acotaciones 5 y 16 no son según la norma.
- D Las acotaciones 5 y 16 son según la norma.



13. ¿Cómo se acotan piezas simétricas?

- A Simétricamente al eje
- B Oblicuamente al eje
- C Nunca partiendo del eje
- D Partiendo siempre de la arista superior

Marca las casillas correspondientes

	1	2	3	4	5	6	7	8	9	10	11	12	13	Errores
A														
B														
C														Nota
D														

Nombre _____

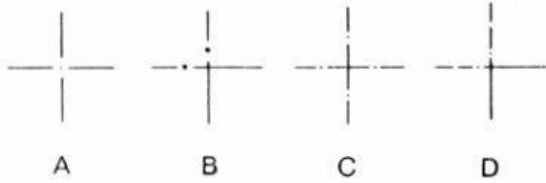
Clase _____

Fecha _____

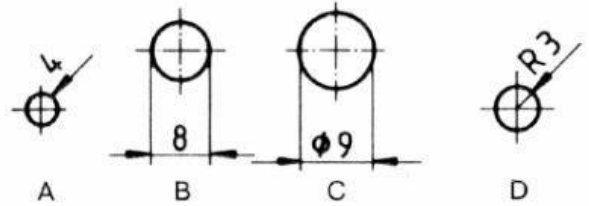
T 2

Piezas curvilíneas planas en una vista

1. ¿Qué representación es correcta?

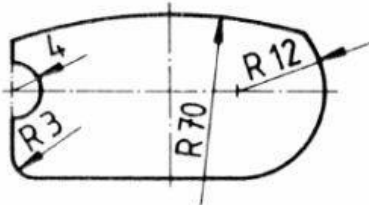


2. ¿Qué representación es según la norma?



3. ¿Qué radio no corresponde a la norma?

- A 12
- B 70
- C 3
- D 4



4. ¿Qué escritura es correcta?

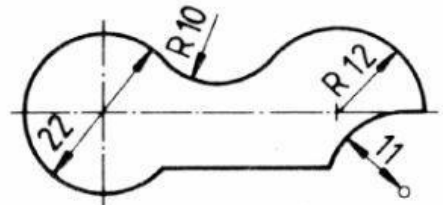
- A 30R
- B R 30
- C R=30
- D 30R

5. ¿Qué escritura es correcta?

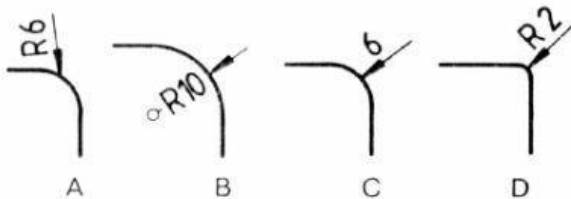
- A ϕ 30
- B 30 ϕ
- C 30 ϕ
- D ϕ 30

6. ¿Qué acotación es incorrecta?

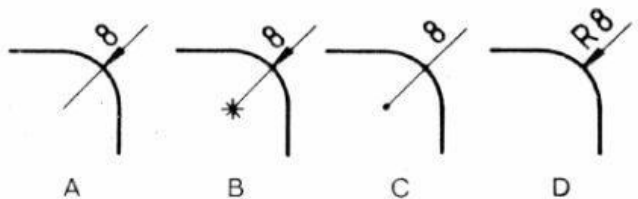
- A 22
- B R10
- C 11
- D R12



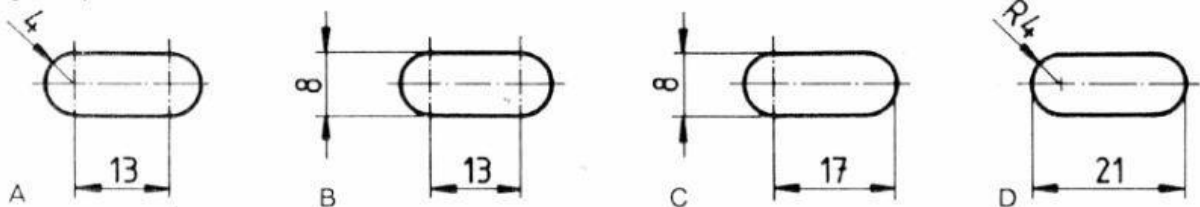
7. ¿Qué representación es correcta?



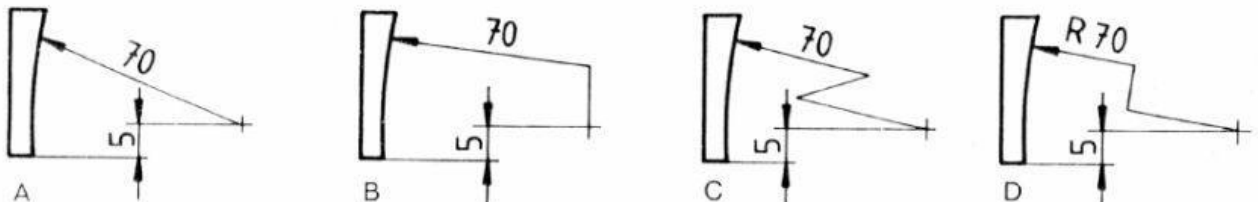
8. ¿Qué representación es correcta?



9. ¿Qué representación es correcta?



10. ¿Qué representación es correcta?



11. ¿Qué afirmación es correcta?

- A La distancia entre agujeros se refiere siempre al centro.
- B La distancia entre agujeros se refiere siempre al diámetro exterior.
- C Si una pieza tiene varias perforaciones del mismo diámetro, hay que acotar cada perforación.
- D El eje de una perforación no debe usarse como línea auxiliar.

Marca las casillas correspondientes

	1	2	3	4	5	6	7	8	9	10	11	Errores
A												
B												Nota
C												
D												

Nombre _____

Clase _____

Fecha _____

T 3