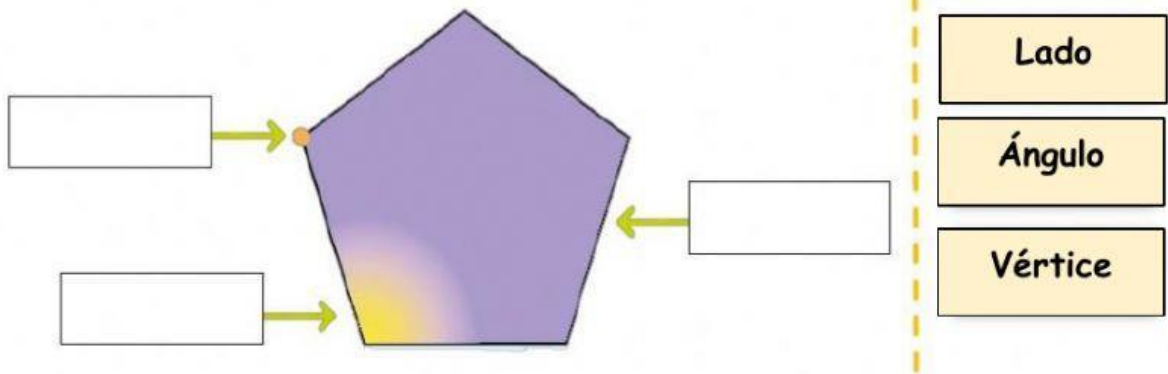



Examen Trimestral de Geometría

Fecha: _____


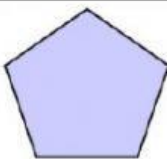
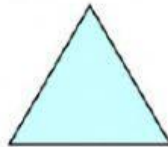
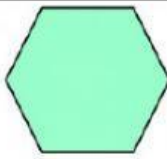
1. Completa las partes de polígono.



2. Marca las figuras que son polígonos.





3. Completa el siguiente cuadro como en el ejemplo.


				
Nº de ángulos	4	<input type="text"/>	<input type="text"/>	<input type="text"/>
Nº de lados	4	<input type="text"/>	<input type="text"/>	<input type="text"/>
Nº de vértices	4	<input type="text"/>	<input type="text"/>	<input type="text"/>
Polígono	Cuadrado	<input type="text"/>	<input type="text"/>	<input type="text"/>

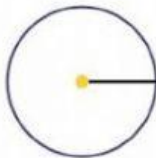
4. Coloca la palabra en el lugar que corresponde.

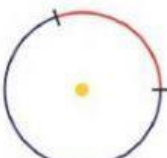
Círculo	Centro	Diámetro
Circunferencia	Radio	Arco















5. Clasifica los triángulos según sus lados.



Equilátero

Escaleno

Isósceles

6. Coloca el nombre a los cuadriláteros.

Paralelogramo	Cuadrado	Trapezio	Rectángulo	Trapezoide	rombo
---------------	----------	----------	------------	------------	-------





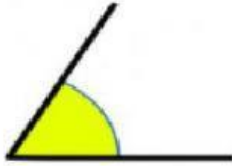










7. Une cada ángulo según corresponde




Ángulo Recto



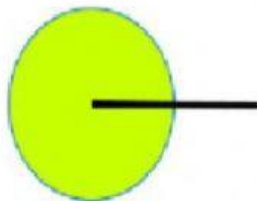
Ángulo Agudo



Ángulo Obtuso



Ángulo Completo



Ángulo Llano