



La centena

Competencia: :Resuelve problemas de cantidad.

RECUERDA:



1 CENTENA
(100)




1 DECENA
(10)



1 UNIDAD
(1)


1.-Observa los bloques y escribe su descomposición:



C	D	U
1	5	7



NÚMERO
157



C	D	U




NÚMERO



C	D	U




NÚMERO



C	D	U




NÚMERO



C	D	U



NÚMERO



C	D	U



NÚMERO



C	D	U



NÚMERO