



**PENILAIAN AKHIR SEMESTER
SMP LB TUNAGRAHITA
TAHUN PELAJARAN 2021/2022**

Mata Pelajaran: Ilmu Pengetahuan Alam Nama:

Hari, Tanggal : Jumat, 10 Desember 2021 Kelas : 4 SDLB Tunarungu

Waktu : 90 menit Nilai :

A. Pilihlah dengan tanda silang (x) pada huruf A, B, C atau D pada jawaban yang benar !

1. Bagian pohon kelapa berupa daun dimanfaatkan untuk


A.



C.



B.



2. Hewan dapat menghasilkan madu adalah

A. lebah

B. sapi

C. kuda

D. ayam

3. Perhatikan gambar berikut!



Tanaman merugikan tanaman lain dengan melilit disebut

A. benalu

C. putri malu

B. rumput

D. tali putri



4. Tanaman merugikan yang hidup menempel dengan tanaman lain ditunjukkan oleh



5. Hewan merugikan yang memakan hasil panen adalah



6. Haikal senang memelihara ikan, ada ikan cupang, ikan mas, ikan mujair. ikan merupakan

A. fauna darat

B. flora darat

C. fauna air

D. flora air

7. Hewan berikut tempat hidupnya ada di

A. darat

C. lumpur

B. air

D. darat dan air



8. Kuda adalah hewan darat. Kuda bernafas menggunakan

- A. hidung
- B. insang
- C. kulit
- D. paru-paru




9. Sayuran ada yang berasal dari daun, batang, ubi, umbi, bunga, dan buah.

Sayuran yang dimanfaatkan daunnya adalah



10. Perhatikan gambar berikut!

Urutan tempat hidup hewan berikut adalah



- A. darat - darat - air
- B. air - darat - darat
- C. darat - air - air
- D. air - darat - air

11. Cara pengolahan sayur berikut adalah ...



- A. mentah
- B. ditumis
- C. dikukus
- D. direbus

12. Berikut adalah tumbuhan hidup di air kecuali ...

- A. selada
- B. enceng gondok
- C. kaktus
- D. teratai

13. Perhatikan gambar berikut !



Kambing



Sapi



Harimau




Unta

Hewan yang bisa menjadi hewan qurban adalah

- A. 1 - 2 - 3
- B. 1 - 3 - 4
- C. 1 - 2 - 4
- D. 2 - 3 - 4

14. Hewan yang hidup di Nusa Tenggara Timur bernama Komodo ditunjukkan



15. Fauna dari papua berikut bernama

- A. burung cenderawasih
- B. burung beo
- C. burung kakak tua
- D. burung elang



16. Badak bercula satu hidup di

- A. ujung kulon Jawa
- B. Nusa Tenggara timur
- C. Kalimantan
- D. Sumatera

17. Ayam berkembang biak dengan

- A. beranak
- B. bertelur
- C. beranak dan bertelur
- D. mengerami

18. Berikut ini kelompok hewan unggas antara lain

- A. ayam, sapi, kucing
- B. ayam, bebek, angsa
- C. ayam, sapi, angsa
- D. sapi, kambing, kucing

19. Perhatikan gambar berikut!



Urutan yang benar dari pertumbuhan ayam adalah

A. 1-3-4-2

B. 2-3-4-1

C. 2-4-3-1

D. 1-2-3-4

20. Tanaman memperoleh air dari tanah melalui

A. bunga

C. batang

B. akar

D. daun