

五年级科学 SAINS TAHUN 5
第二课：人类 Topik 2: Manusia
增广练习：Latihan Pengukuhan

姓名：_____ 班级：_____ 日期：_____

B 回答以下的问题。

1. 图 1 显示人体的骨骼。

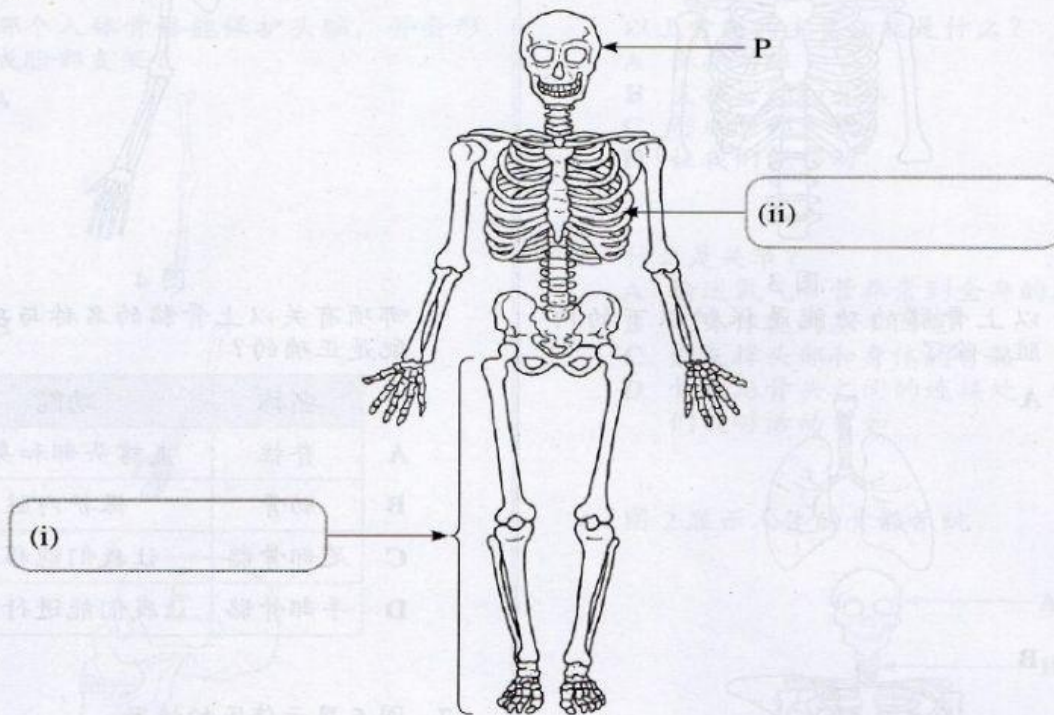


图 1

(a) 在图 1 中写出骨骼的名称。

[2 分]

(b) 写出 P 骨骼的两个功能。

1. _____

2. _____

[2 分]

(c) (i) 什么使我们身体的有些骨骼部位能弯曲？

[1 分]

(ii) 在上图中圈出其中一个相关的部位。

[1 分]

2. (a) 图 1.1 显示有关血液循环系统所涉及的部分及其功能。

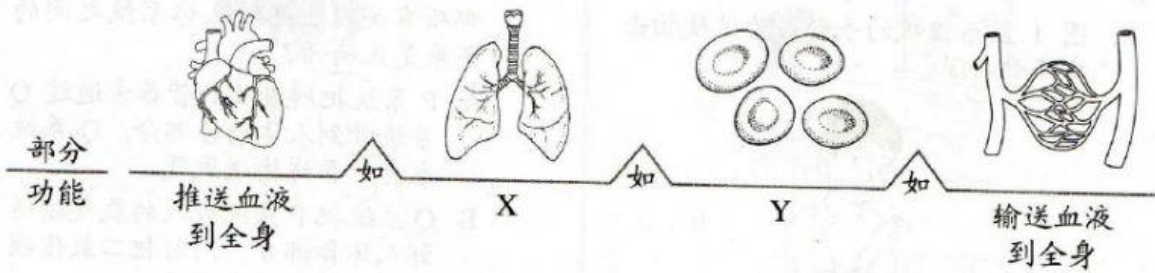


图 1.1

写出 X 和 Y。

X: _____

Y: _____

[2分]

(b) 图 1.2 显示人体血液循环的途径。

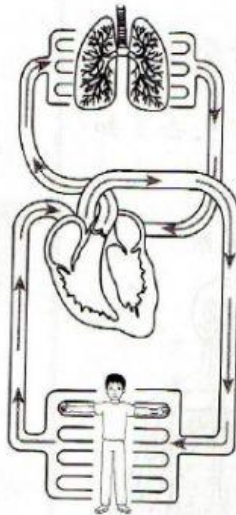


图 1.2

在上图中圈出氧气含量较高的血液途径。

[1分]

(c) 血液会把废物如二氧化碳和尿液带到排泄器官。写出这两种废物分别会被带到什么排泄器官？

(i) 二氧化碳: _____ (ii) 尿液: _____

[2分]

