



PEMERINTAH KOTA BANDUNG
DINAS PENDIDIKAN
SEKOLAH DASAR NEGERI 106 AJITUNGAL CIJAMBE

Jl.Terusan Sukup Baru No.5 Kel.Pasir Endah Kec. Ujungberung
Bandung 40619 Telp.022- 63728012



**PENILAIAN AKHIR SEMESTER
TAHUN PELAJARAN 2021-2022**

Mata Pelajaran : IPA
Kelas : V (Lima)
Hari/Tanggal : Kamis, 9 Desember 2021
Waktu : 90 menit

Nama :

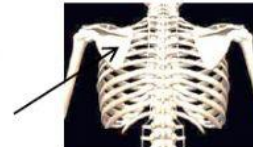
Kelas : 5

Berilah tanda silang (X) pada huruf A, B, C, atau D di depan jawaban yang tepat!

1. Alat gerak pasif pada manusia adalah
 - A. paru-paru
 - B. tulang
 - C. otot
 - D. gigi

2. Hewan berikut yang termasuk vertebrata adalah
 - A. cumi-cumi
 - B. belalang
 - C. siput
 - D. ular

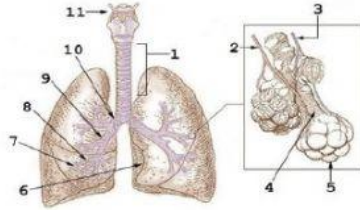
3. Tulang yang ditunjukkan oleh tanda panah pada gambar di tersebut adalah
 - A. dada
 - B. rusuk
 - C. belikat
 - D. selangka



4. Penyakit tulang yang terjadi pada gambar adalah
 - A. fisura
 - B. lordosis
 - C. kifosis
 - D. skeliosis

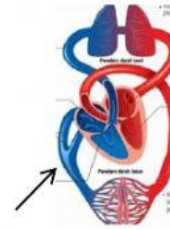


5. Osteoporosis dapat kita hindari dengan mengonsumsi
 - a. telur yang mengandung protein
 - b. susu yang mengandung kalsium
 - c. daging yang mengandung lemak
 - d. buah-buahan yang mengandung vitamin C
6. Ibu memutar leher secara tiba-tiba sehingga menyebabkan leher terasa kaku, maka ia mengalami penyakit
 - A. Stiff
 - B. Kram
 - C. Tetanus
 - D. Atrofi



7. Gambar yang ditunjukkan oleh no 5 adalah ...
 - A. laring
 - B. faring
 - C. alveolus
 - D. bronkiolus
8. Berikut yang bukan termasuk organ pernapasan pada manusia adalah ...
 - A. hidung
 - B. paru-paru
 - C. tenggorokan
 - D. kerongkongan
9. Penyakit pernapasan berikut yang tidak menular adalah ...
 - A. Flu
 - B. TBC
 - C. Asma
 - D. Batuk
10. Salah satu cara menjaga kesehatan organ pernapasan adalah ...
 - A. menghindari udara kotor
 - B. tinggal di ruang ber AC
 - C. tinggal di daerah dingin
 - D. memakai masker setiap saat
11. Berikut yang **bukan** merupakan bahaya kabut asap adalah ...
 - A. menyebabkan banjir dan tanah longsor
 - B. menyebabkan infeksi pada organ pernapasan
 - C. menyebabkan iritasi pada hidung, mata, dan tenggorokan
 - D. menyebabkan penyakit infeksi saluran pernapasan (ISPA)
12. Cara menjaga organ pernapasan kita adalah ...
 - A. menghirup debu dan asap
 - B. kebiasaan merokok
 - C. menghirup udara kotor
 - D. membersihkan rongga hidung secara teratur
13. Makanan yang mengandung protein adalah ...
 - A. jagung dan nasi
 - B. daging dan ketela pohon
 - C. daging dan tempe
 - D. minyak ikan dan susu
14. Organ pencernaan yang berfungsi menyerap sari-sari makanan adalah ...
 - A. lambung
 - B. usus halus
 - C. usus besar
 - D. usus buntu
15. Nama penyakit akibat pola makan yang tidak teratur adalah ...
 - A. maag
 - B. tifus
 - C. diare
 - D. usus buntu
16. Berikut ini yang **bukan** merupakan penyakit pencernaan pada manusia adalah ...
 - A. tetanus
 - B. kolera
 - C. diare
 - D. tifus
17. Berikut ini yang bukan merupakan cara menjaga kesehatan organ pencernaan adalah ...
 - A. makan makanan yang bergizi
 - B. pola makan teratur
 - C. olahraga teratur
 - D. merokok
18. Sikap yang baik terkait pola makan adalah ...
 - A. hanya makan sayuran saja
 - B. menjaga pola makan yang seimbang
 - C. banyak mengonsumsi makanan berlemak
 - D. tidak mengonsumsi makanan yang berlemak
19. Kandungan buah pisang yang dapat menjadi lapisan anti radang pada lambung dan usus adalah ...
 - A. kalsium
 - B. kalium
 - C. zat besi
 - D. fosfor

20. Perhatikan gambar di samping!
Pembuluh darah yang ditunjukkan oleh tanda panah adalah
- vena
 - arteri
 - arteri pulmonalis
 - vena pulmonalis



21. Arteri bertugas membawa darah yang mengandung
- oksigen
 - uap air
 - karbondioksida
 - sisa makanan
22. Nama alat bantu untuk mendengar detak jantung adalah
- periskop
 - mikroskop
 - teleskop
 - stetoskop
23. Penyebab leukemia atau kanker darah adalah
- meningkatnya produksi sel darah merah
 - berkurangnya produksi sel darah merah
 - meningkatnya produksi sel darah putih
 - berkurangnya produksi sel darah putih
24. Komponen berikut yang merupakan kumpulan biotik adalah
- air dan hewan
 - matahari dan udara
 - tumbuhan dan hewan
 - tanah dan tumbuhan
25. Eko memiliki sebuah kebun yang ditanami banyak bunga mawar. Kumpulan bunga mawar Eko disebut
- individu
 - populasi
 - habitat
 - komunikasi
26. Simbiosis yang terjadi antara burung gagak dengan kerbau adalah
- parasitisme
 - mutualisme
 - amensalisme
 - komensalisme
27. Berikut alasan bunga mendapatkan keuntungan ketika dihisap madunya oleh lebah adalah
- bunga tidak cepat layu
 - bunga tidak mudah dipetik
 - bunga dibantu penyerbukannya oleh lebah
 - bunga dapat menghasilkan madu yang lebih banyak
28. Pemanfaatan makhluk hidup oleh manusia tidak akan mengganggu kelestarian jika dilakukan dengan cara
- penangkapan ikan dengan jaring
 - pembukaan hutan untuk perumahan
 - menebang hutan untuk lahan pertanian
 - perburuan binatang terutama pada musim kawin
29. Cara yang benar untuk menjaga kesehatan organ peredaran darah adalah
- makan yang banyak
 - tidur dalam waktu yang lama
 - olahraga teratur
 - mengonsumsi gula dengan jumlah yang banyak
30. Makanan dari hewan yang tergolong insektivora adalah
- tumbuhan
 - serangga
 - daging
 - ikan

