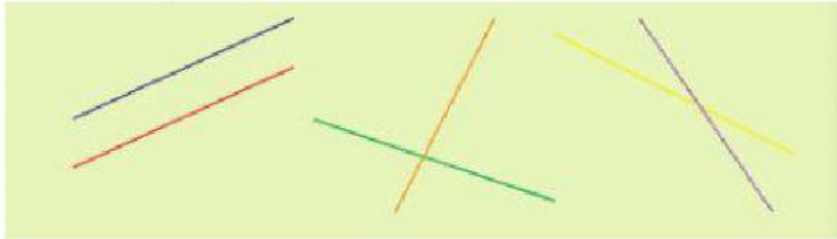


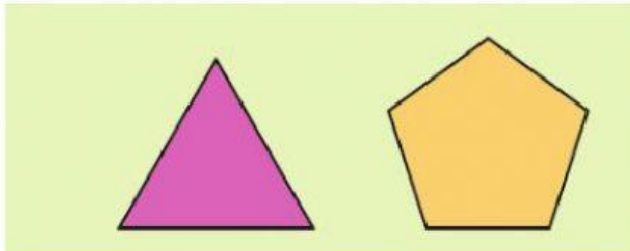
REPASO UNIDAD 10 MATEMÁTICAS:

RECTAS, CURVAS Y ÁNGULOS

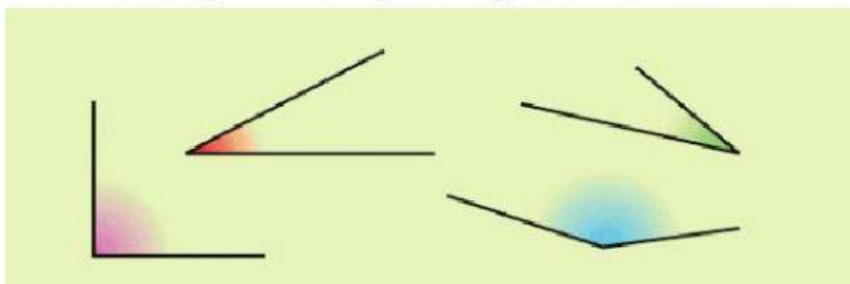
1. Identifica qué tipo de rectas son:



2. Indica cuántos ángulos interiores tienen estas figuras:



3. Clasifica los siguientes ángulos según su abertura.



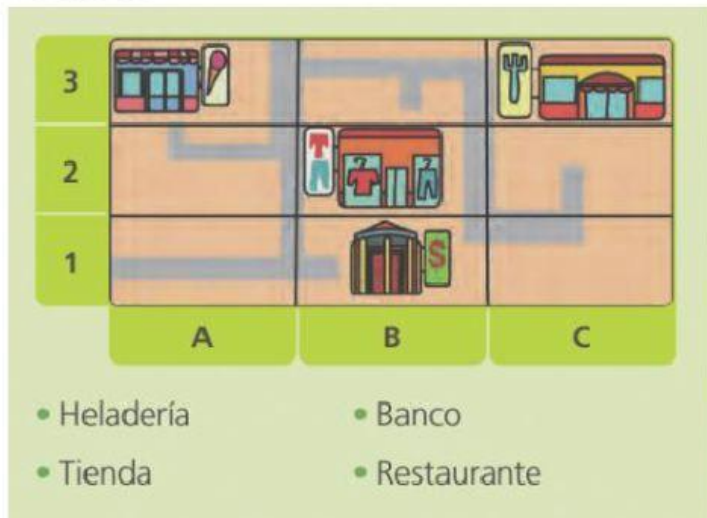
4. Completa las siguientes frases utilizando recta, semirrecta o segmento:

La parte de la recta comprendida entre dos puntos es un _____.

Una _____ no tiene ni principio ni fin.

Un punto divide a una recta en dos _____.

5. Observa el siguiente plano y escribe las coordenadas de los lugares indicados.



6. Elige la respuesta correcta



SEMIRRECTA



SEGMENTO



RECTA



SEGMENTO



SEMIRRECTA

7. Etiqueta los elementos de este ángulo:

