



**PENILAIAN AKHIR SEMESTER
TAHUN PELAJARAN 2021/2022**

| | |
|----------------------|--|
| KELAS | : I (Satu) |
| TEMA | : IV (Empat) / (Keluargaku) |
| ALOKASI WAKTU | : 90 Menit |

Berilah tanda silang (X) pada jawaban yang paling benar pada huruf A, B, atau C.

1. Pancasila terdiri dari ... sila.

- A. Tiga
- B. Empat
- C. Lima

2. Perhatikan gambar dibawah ini!



Bunyi simbol Pancasila diatas adalah ...

- A. Ketuhanan yang maha esa
- B. Kemanusiaan yang adil dan beradab
- C. Persatuan Indonesia

3. Bunyi sila Pancasila ke-dua adalah ...

- A. Ketuhanan yang maha esa
- B. Kemanusiaan yang adil dan beradab
- C. Persatuan Indonesia

4. Bersyukur memiliki keluarga bahagia adalah cerminan sila ... Pancasila.

- A. Pertama
- B. Kedua
- C. Ketiga

5. Lambang Pancasila slia ke -5 adalah ...



6. Nilai – nilai Pancasila harus kita ...

- A. Jauhi
- B. Amalkan
- C. Tinggalkan

7. Perhatikan gambar dibawah ini!



Nama kakak perempuan udin adalah ...

- A. Siti
- B. Mutiara
- C. Fatimah

8. Sesama keluarga kita harus saling ...

- A. Menyayangi
- B. Memusuhi
- C. Menyakiti

9. Asal usul keluarga biasa disebut ...

- A. Keluarga ini
- B. Keluarga besar
- C. Silsilah keluarga

10. Ayah dari ayah atau ibu kita adalah ...

- A. Kakek
- B. Nenek
- C. Bibi

11. Adik dari ayah atau ibu kita adalah ...

- A. Kakek
- B. Nenek
- C. Bibi

12. Perhatikan gambar dibawah ini!




Aktivitas diatas adalah ...

- A. Memasak
- B. Berolahraga
- C. Berlibur

13. Perhatikan gambar dibawah ini!

Silsilah Keluarga



Bangun datar pada kakak udin adalah...

- A. Segi Empat
- B. Segitiga
- C. Lingkaran

14. Perhatikan gambar dibawah ini!



Bentuk bangun datar foto keluarga Udin diatas adalah ...

- A. Segi Empat
- B. Segitiga
- C. Lingkaran

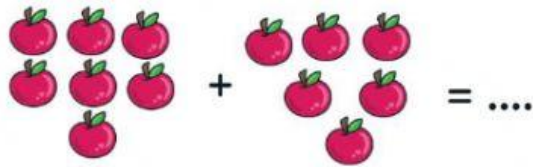
15. Perhatikan gambar dibawah ini!



Bentuk jam dinding diatas alah ...

- A. Segi Empat
- B. Segitiga
- C. Lingkaran

16. Perhatikan gambar dibawah ini!



Jumlah buah diatas adalah ...

- A. 12
- B. 13
- C. 14

17. Perhatikan gambar dibawah ini!



Gambar diatas udin mengukur dengan ...

- A. Penggaris
- B. Meteran
- C. Jengkal

18. Perhatikan gambar dibawah ini!



Jumlah keluarga besar udin ada ...

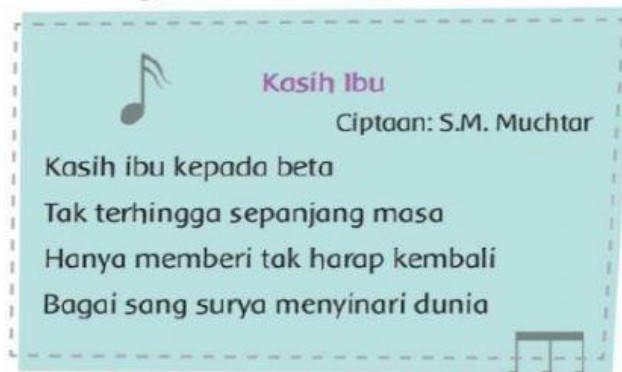
- A. 7
- B. 8
- C. 9

19. Udin memiliki 15 balon, karena ada angin kencang 4 balon miliknya terbang.

Berapa sisa balon Udin ...

- A. 11 balon
- B. 12 balon
- C. 13 balon

20. Perhatikan gambar dibawah ini !



Lagu diatas memuji kasih sayang ... kepada kita.

- A. Ibu
- B. Ayah
- C. Kakak

21. Perhatikan gambar dibawah ini!



Alat untuk mewarnai diatas adalah ...

- A. Pensil warna
- B. Cat air
- C. Krayon

22. Perhatikan gambar dibawah ini!



Gambar 1



Gambar 2



Gambar 3

Pewarna yang digunakan untuk melukis nomer ...

- A. 1
- B. 2
- C. 3


23. Perhatikan gambar dibawah ini!



Warna diatas jika digabungkan menjadi ...

- A. Hijau muda
- B. Biru tua
- C. Merah


24. Perhatikan gambar dibawah ini!



Warna diatas jika digabungkan menjadi ...

- A. Hijau
- B. Biru
- C. Orange

25. Perhatikan gambar dibawah ini !



Gambar kolase diatas terbuat dari ...

- A. Daun
- B. Kertas
- C. Plastik

26. Perhatikan gambar dibawah ini !




Aktivitas beni diatas adalah ...

- A. Olahraga Bersama keluarga
- B. Memasak Bersama
- C. Liburan Bersama

27. Manfaat kita berolahraga supaya tubuh kita ...

- A. Lemas
- B. Letih
- C. Sehat

28. Perhatikan gambar dibawah ini !



Aktivitas gambar diatas adalah ...

- A. Berjalan
- B. Berlari
- C. Berdiri

29. Perhatikan gambar dibawah ini !



Permainan diatas adalah ...

- A. Lompat tali
- B. Lompat tinggi
- C. Berlari

30. Perhatikan gambar dibawah ini!



Permainan diatas adalah ...

- A. Sepak bola
- B. Bola voli
- C. Basket