



SECCIÓN PRIMARIA  
TRIMESTRAL DE MATEMÁTICAS

Docente: Rossana de Navarro. Grado: 3-A Puntos 30  
Nombre: \_\_\_\_\_ Valor 1 punto. Fecha: 9/12/21

☐ Lee las indicaciones con ayuda.

I. Parte. Une con una línea las respuestas correctas. Valor 5 puntos.

- |                                  |            |
|----------------------------------|------------|
| a. Dos décimos:                  | 49/100     |
| b. Veintiocho centésimos         | 37/10 000  |
| c. Doce cienmilésimas            | 2/10       |
| d. Cuarenta y nueve centésimos   | 28/100     |
| e. Treinta y siete diezmilésimas | 12/100 000 |

II. Parte. Escribe los números decimales donde corresponden. Valor 5 puntos.

0,25      0,81      0,92      10, 031      13, 014

- |  |       |
|--|-------|
| a. Tres enteros catorce milésimas      | _____ |
| b. Diez enteros treinta y un milésimas | _____ |
| c. Noventa y dos centésimos            | _____ |
| d. Ochenta y un centésimas             | _____ |
| e. Veinticinco centésimos              | _____ |

II. Parte. Adición y sustracción de fracciones homogéneas. Valor 4 puntos.

1.  $\frac{2}{13} + \frac{6}{13} = \frac{\boxed{\phantom{00}}}{\boxed{\phantom{00}}}$

2.  $\frac{6}{7} - \frac{3}{7} = \frac{\boxed{\phantom{00}}}{\boxed{\phantom{00}}}$

IV. Parte. Resuelve las multiplicaciones y divisiones con fracciones. Valor 4 puntos.

1.  $\frac{2}{7} \times \frac{5}{11} = \frac{\boxed{\phantom{00}}}{\boxed{\phantom{00}}}$

2.  $\frac{1}{5} \div \frac{2}{3} = \text{---} \times \text{---} = \frac{\boxed{\phantom{00}}}{\boxed{\phantom{00}}}$

V. Parte. Une cada reloj con la hora en palabras. Valor 5 puntos.

2:45

1:50

11:40

8:45

7:55

Un cuarto para las nueve




Un cuarto para las tres

Cinco para las ocho

Diez para las dos

Veinte para las doce

VI. Parte. Arrastra el nombre debajo de cada imagen. Valor 6 puntos.



<i>Romboide</i>	<i>Trapezio</i>	<i>Cuadrado</i>
<i>Rombo</i>	<i>Triángulo</i>	<i>Rectángulo</i>