


Sección Primaria
Examen Trimestral de Ciencias Sociales
Tercer Trimestre



Nombre: _____ Fecha: _____

Grado: 1° A-B

Docentes: Kenia Carrera / Francisca González

Valor: 30 Puntos

I. Escribe Sí para el enunciado cierto y No para el falso. 5 puntos.

1. _____ La independencia de España ocurrió el 25 de diciembre de 2021.
2. _____ El 10 y 28 de noviembre se celebra pascua en Panamá.
3. _____ El primer grito de independencia lo dieron en la Villa de Los Santos.
4. _____ El 5 de noviembre de 1903, militares colombianos abandonan Panamá.
5. _____ El 3 de noviembre celebramos el Día de Separación de Colombia.

II. Ordena las imágenes según las fechas en que ocurrió cada evento. 3 puntos.



10 de noviembre de 1821



28 de noviembre de 1821



3 de noviembre de 1903.



Separación de Panamá de Colombia.




Independencia de Panamá de España y Unión a la Gran Colombia.




Reunión de las autoridades en la Villa de Los Santos.

- III. Escribe los nombres de nuestros símbolos patrios donde corresponde.
3 puntos

Los Símbolos Patrios de Panamá son:



*"Alcanzamos por fin la victoria
en el campo feliz de la unión;
con ardientes fulgores de gloria
se ilumina la nueva nación."*



- IV. Fragmento del Himno Nacional. Completa los espacios con las palabras que faltan. 5 puntos

mares

rumbo


El progreso acaricia tus _____
al _____ de sublime
canción, ves _____ a tus
pies ambos _____ que dan
_____ a tu noble misión.

rugir

lares

compás

V. Coloca los colores de la bandera nacional donde corresponde. 4 puntos



VI. Relaciona los elementos y colores de nuestra Bandera con su significado. 5 puntos



• Partido Liberal

• Paz y unidad

• Pureza y honestidad

• Autoridad y la Ley

• Partido Conservador

VII. Coloca cada imagen de nuestro Escudo junto a su significado. 5 puntos



1. Simbolizan el trabajo

2. Símbolo de progreso

3. Simboliza la paz

4. Representan las provincias

5. Simboliza la Soberanía

¡Felices vacaciones!