


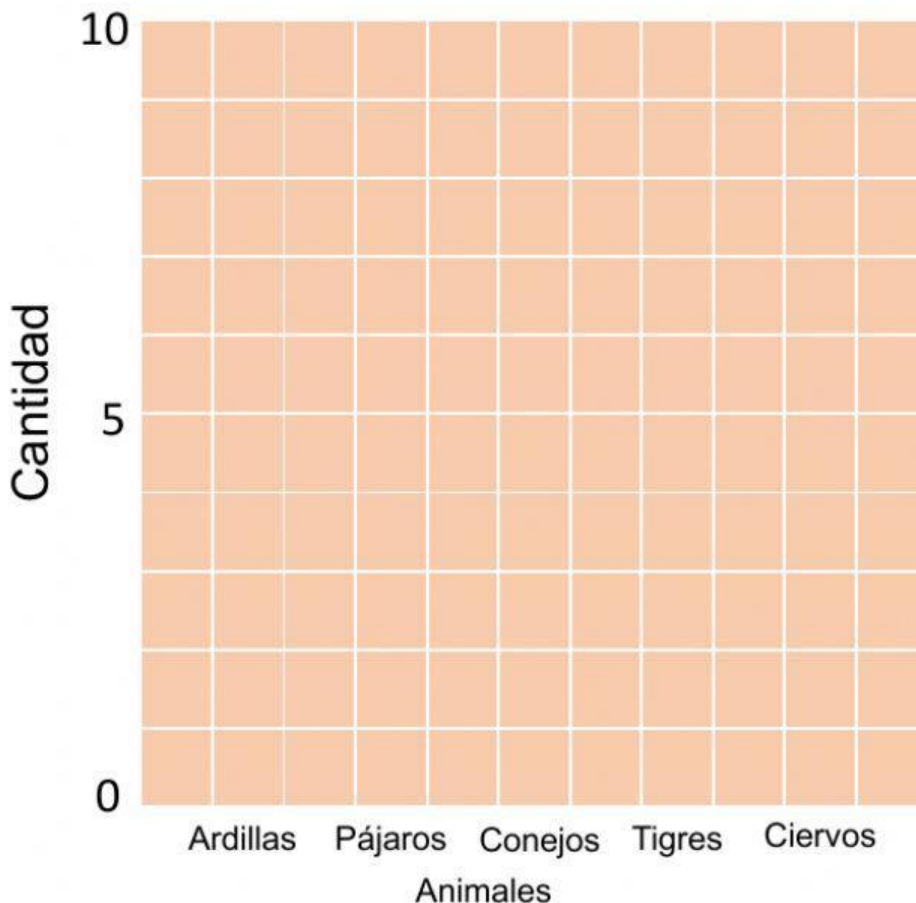
ACTIVIDADES INTERACTIVAS ESTADÍSTICA

¿Cuántos hay de cada animal?



Número de animales					
Animal	Ardillas	Pájaros	Conejos	Tigres	Ciervo
Número					

Represento la cantidad de animales en una gráfica




¿De qué animal hay más?

¿Qué hay más, ardillas o ciervos?

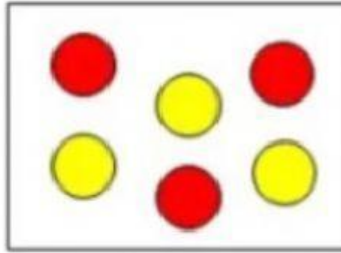
ACTIVIDADES INTERACTIVAS PROBABILIDAD

Observa y completa:

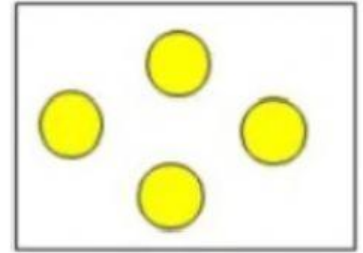
Caja 1



Caja 2



Caja 3



En la caja ☐ es posible coger una bola amarilla.

En la caja ☐ es imposible coger una bola amarilla.

En la caja ☐ es seguro coger una bola roja.

Imagina que sacas una bola de cada urna sin mirar y une correctamente:

Es seguro sacar una bola azul.

Es imposible sacar una bola azul.

Es posible sacar una bola verde.

