

# LOS NÚMEROS HASTA EL 399

## Números hasta el 399



Hay 299 unidades y añado 1. ¿Cuántas hay en total?

Hay 3 centenas, que son 300 unidades.

$$299 + 1 = 300$$

trescientos

C	D	U
3	0	0

1 Une según corresponda.



☐

☐ 3 C y 4 U ☐

☐  $300 + 40$



☐

☐ 3 C, 4 D y 7 U ☐

☐  $300 + 4$



☐

☐ 3 C y 4 D ☐

☐  $300 + 40 + 7$

2 Escribe estos números con letra.

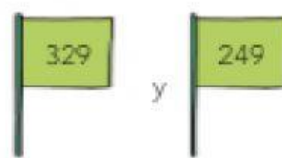





# LOS NÚMEROS HASTA EL 399

U-4

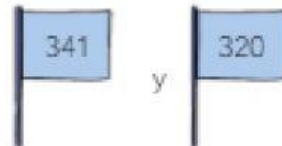
**3** Compara estos números y escribe  $>$  o  $<$ .



y



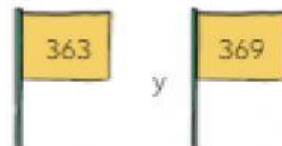
329  249




y



341  320



y



363  369

Dictado de números


**4** Cuenta de 10 en 10 y completa la recta numérica.



**5** Averigua de qué números se trata. Escríbelos.

- Tiene 3 centenas, 4 decenas y 7 unidades.
- Tiene 2 centenas y 9 decenas.
- Tiene 3 centenas y 5 unidades.



Una pequeña investigación...

Investiga qué es un número capicúa. Después, representa varios números capicúa con tus bloques.

