

# 1 Analiza la siguiente información. Luego, responde.

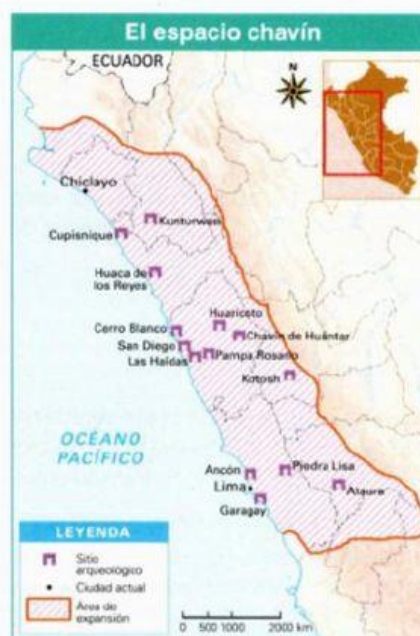
## El Templo de Chavín

Se ubica en la confluencia de los ríos Mosna y Wacheqsa, en la región Áncash. Fue construido en un lugar estratégico, cerca de la cordillera Blanca, que corre paralela a la costa y forma una barrera para quien viaja de la selva a la costa o viceversa. Hay pocos caminos libres por donde se puede atravesar la cordillera, y dos de ellos pasan por el Templo de Chavín. Esto hizo del templo un lugar de fácil acceso y un paso obligado en el intercambio de productos.

- ¿Qué beneficios obtuvieron los chavín al construir el templo en ese lugar?

# 2 Observa el mapa y colorea el área de expansión de la cultura Chavín. Luego, responde.

- ¿Hasta dónde se extendió el espacio chavín por el norte y por el sur?
- ¿De qué manera las características del territorio influyeron en las actividades económicas que desarrollaron los chavín?
- ¿Qué sitios arqueológicos se ubican en la región La Libertad?
- ¿Dónde se encuentran los siguientes sitios arqueológicos? Une.



Kotosh

Kunturwasi

Chavín de Huántar

Garagay

Cajamarca

Lima

Huánuco

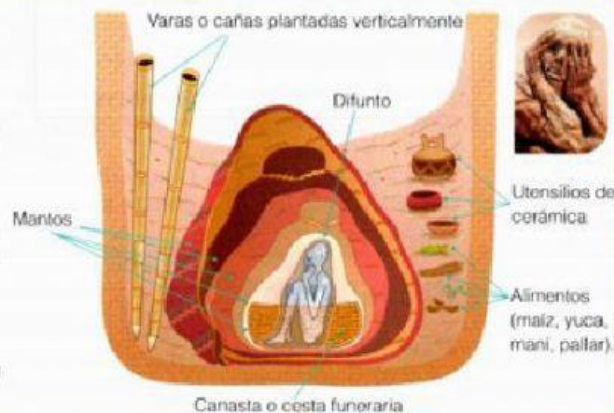
Áncash

Lee el siguiente texto y observa el esquema. Luego, responde.

En la costa sur del Perú se han encontrado cementerios de la cultura Paracas.

Los pobladores creían que cuando una persona moría se iba a vivir con sus ancestros. Por ello, colocaban al difunto dentro de una canasta junto con sus pertenencias y comida.

La canasta se envolvía con mantos sencillos, que iban intercalados con otros finamente elaborados.



- ¿Qué tipo de fuente son las tumbas paracas? ¿Sobre qué aspecto de la vida de los paracas proporcionan información?
- ¿Qué objetos eran colocados en las tumbas? ¿Por qué los colocaban?

Observa el mapa "El espacio paracas" de la página 126 y responde.

- ¿Qué territorios actuales ocuparon los paracas? Marca.



Lima



Chincha



Pisco



Ica

- ¿Qué sitios arqueológicos se ubican entre los ríos San Juan y Pisco? Subraya.

Cerro Colorado


Complejo Soto

Complejo San Pablo

- ¿Por qué los sitios arqueológicos están ubicados en áreas próximas a los ríos y al mar?



Retira los *stickers* de la página S5 y pégalos según corresponda. Luego, responde.



Huaco retrato moche

Ceramio moche

- ¿Qué tipo de fuentes históricas son estos ceramios? ¿Qué información brindan?

- ¿Qué semejanzas y diferencias encuentras entre estos ceramios?

Ingresa a <https://goo.gl/hNZwxO> y observa el video "Museo Tumbas Reales de Sipán". Luego, responde.

- ¿A qué cultura pertenecen las tumbas reales de Sipán? Marca.

Nasca

Moche

Paracas

- ¿Qué fue lo que más te llamó la atención sobre la vida de los moche?

¿Qué métodos de recolección de agua emplearon los nasca? En parejas, completen.



"Ojos de agua", aberturas para limpiar los canales, en el valle de Nasca.

Tecnología que emplearon	Ventajas de la tecnología empleada

- Imaginen que entrevistan a un poblador de la cultura Nasca, ¿qué preguntas le harían? Formulen dos.