







Cochez la bonne réponse

1)		<input type="checkbox"/> a. Il est une heure. <input type="checkbox"/> b. Il est deux heures. <input type="checkbox"/> c. Il est trois heures.	4)		<input type="checkbox"/> a. Il est midi. <input type="checkbox"/> b. Il est minuit. <input type="checkbox"/> c. Il est six heures.
2)		<input type="checkbox"/> a. Il est trois heures. <input type="checkbox"/> b. Il est huit heures. <input type="checkbox"/> c. Il est cinq heures.	5)		<input type="checkbox"/> a. Il est quatre heures. <input type="checkbox"/> b. Il est onze heures. <input type="checkbox"/> c. Il est neuf heures.
3)		<input type="checkbox"/> a. Il est une heure. <input type="checkbox"/> b. Il est sept heures. <input type="checkbox"/> c. Il est dix heures.	6)		<input type="checkbox"/> a. Il est douze heures. <input type="checkbox"/> b. Il est deux heures. <input type="checkbox"/> c. Il est trois heures.