



SDLB TUNARUNGU PANGUDI LUHUR

Jl. Pesanggrahan 125, Kembangan,
Jakarta Barat 11610 Telp. 021-5804223

PENILAIAN AKHIR SEMESTER I TAHUN PELAJARAN 2021-2022

Mata Pelajaran : IPS Nama/ Kelas: / 3B
Hari, Tanggal : Selasa, 7 Desember 2021 Waktu : 07.40 - 09.10

- I. Pilihlah huruf A, B atau C di depan jawaban yang benar!
- II. Isilah titik-titik berikut dengan jawaban singkat yang benar!
- III. Kerjakan sesuai perintah!

KD. 3.1 Mengidentifikasi aneka pekerjaan manusia.

1. Kebutuhan hidup manusia meliputi kebutuhan pokok dan kebutuhan
 - A. bersama
 - B. tambahan
 - C. utama

2. Perhatikan gambar berikut!



Pekerjaan orang seperti pada gambar tersebut adalah

- A. juru lukis
 - B. juru masak
 - C. juru kunci
3. Orang yang bertugas melayani dan melindungi masyarakat disebut
 - A. polisi
 - B. pilot
 - C. petani
4. Tempat kerja dokter dan perawat adalah



- A. sekolah



- B. galeri seni



C. rumah sakit

5. Jenis pekerjaan ada 2 yaitu bergerak di bidang jasa dan pekerjaan yang menghasilkan _____



6. Pekerjaan orang seperti pada gambar tersebut adalah _____

7. Supir bis Trans Jakarta merupakan salah satu contoh pekerjaan yang memerlukan _____

8. Tuliskan 2 alasan orang harus bekerja!

Jawab:

KD. 3.2 Mengenal rambu-rambu lalu lintas.

9. Kepanjangan APILL adalah

- A. Alat Pemberian Ikatan Lalu Lintas
- B. Alat Pemberi Isyarat Lalu Lintas
- C. Alat Pemancar Isyarat Lalu Lintas



10. Berikut adalah gambar

- A. lampu Isyarat Pejalan Kaki
- B. lampu merah, lampu hijau
- C. lampu APILL



11. Rambu berikut artinya

- A. dilarang putar balik
- B. dilarang berhenti
- C. dilarang parkir sembarangan



12. Tempat untuk menyeberang pejalan kaki dinamakan _____

13. Lampu Isyarat Pejalan Kaki berfungsi membantu pejalan kaki untuk _____



14. Lampu APILL berwarna merah berarti kendaraan _____

15. Sebutkan 2 fungsi lampu APILL!

Jawab:

KD. 3.3 Mengenal kegiatan jual-beli.

16. Kegiatan yang dilakukan untuk memperoleh barang dengan alat tukar berupa uang disebut kegiatan

- A. tawar
- B. tolong-menolong
- C. jual-beli

17. Orang yang menjajakan barang dagangannya disebut

- A. pengepul
- B. pembeli
- C. penjual

18. Berikut yang **bukan** tempat untuk melakukan kegiatan jual-beli adalah



A. pasar swalayan



B. tempat ibadah



C. kedai

19. Alat tukar yang digunakan dalam kegiatan jual-beli dinamakan _____
20. Manusia melakukan kegiatan jual beli untuk _____ kebutuhan hidupnya.
21. Orang yang membeli barang dagangan penjual disebut _____
22. Sebutkan 4 syarat-syarat terjadinya kegiatan jual-beli!

Jawab:


KD. 3.4 Mengenal denah lingkungan rumah dan denah lingkungan sekolah.

23. Perhatikan gambar berikut!



Gambar tersebut adalah

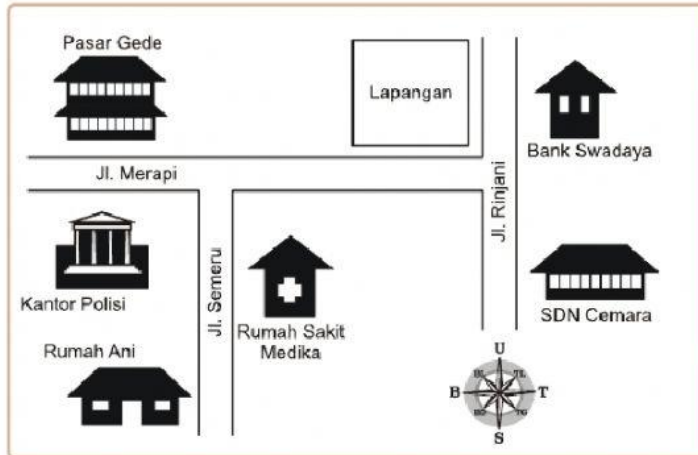
- A. atlas
 - B. denah
 - C. globe
24. Berikut ini yang bukan hal-hal yang ada dalam denah adalah
- A. nama pembuat denah
 - B. judul denah
 - C. lokasi yang dituju
25. Perhatikan lambang berikut!



Lambang tersebut dinamakan

- A. bintang kejora
- B. bujur angin
- C. arah mata angin

Perhatikan denah berikut untuk mengerjakan nomor 26 dan nomor 27!



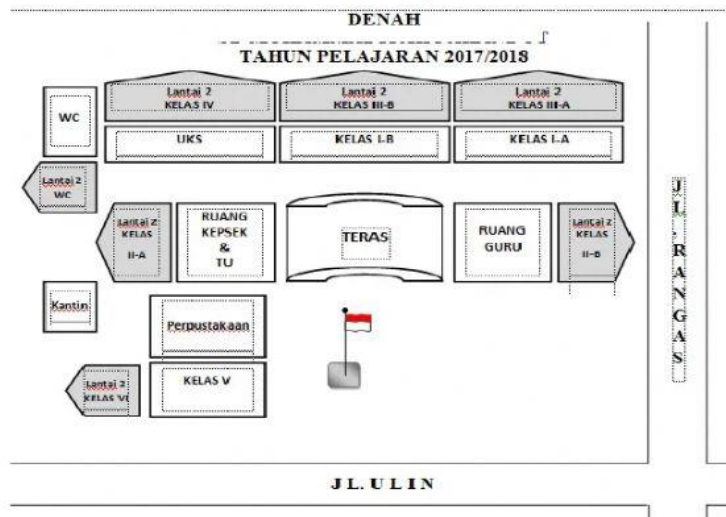
26. Lokasi Pasar Gede ada di Jalan ... dan Pasar Gede bersebrangan dengan

- A. Merapi, Lapangan
- B. Merapi, Kantor Polisi
- C. Semeru, Kantor Polisi

27. Rumah Anni ada di jalan _____

28. Denah adalah _____

Perhatikan denah berikut untuk menjawab soal nomor 29 dan nomor 30!



29. Ruang yang berada di antara ruang kepala sekolah dan ruang kelas V adalah _____

30. Kelas III B ada di lantai 2, kelas III B terletak di antara ruang _____ dan _____

KD. 3.5 Memahami uang.

31. Gambar berikut yang merupakan uang Indonesia adalah



32. Perhatikan gambar uang berikut!



Ciri-ciri uang yang ditunjukkan oleh huruf a dan b adalah

- A. gambar gubernur dan nomor seri uang
- B. gambar pahlawan dan nomor bank Indonesia
- C. gambar pahlawan nasional dan nomor seri uang

33. Perusahaan yang bertugas mencetak uang di Indonesia adalah
- A. Perum Peruri
 - B. Perum Damri
 - C. Bank
34. Jenis uang yang dapat digunakan di pasar tradisional yaitu uang kertas dan uang _____
35. Alat tukar yang digunakan dalam transaksi jual-beli dinamakan _____
36. Mata uang negara Indonesia yaitu _____
37. Anak-anak dapat menabung uang di bank dan di _____
38. Sebutkan 5 kegunaan uang!
- Jawab:

KD. 3.6 Mengenal pasar

39. Tempat bertemunya penjual dan pembeli disebut
- A. sekolah
 - B. rumah sakit
 - C. pasar
40. Perhatikan gambar berikut!



- Gambar tersebut merupakan contoh pasar ...
- A. tradisional
 - B. semi modern
 - C. modern
41. Proses percakapan antara pembeli dan penjual untuk menentukan harga yang sama-sama diinginkan, biasanya banyak dilakukan di pasar tradisional. Proses tersebut dinamakan
- A. pemaksaan
 - B. tawar-menawar
 - C. adu mulut

Cermati nama beberapa pasar berikut untuk menjawab soal nomor 42 dan 43 :

- | | |
|----------------------------|----------------------|
| 1) Palmerah | 4) Indomaret |
| 2) Superindo | 5) Carrefour |
| 3) Pasar Induk Kramat Jati | 6) Pasar Tanah Abang |

42. Pasar modern ditunjukkan oleh nomor _____, _____ dan _____
43. Pasar Tanah Abang merupakan jenis pasar _____
44. Tawar-menawar dapat dilakukan dalam pasar _____
45. Sebutkan 3 contoh pasar tradisional yang ada di sekitar lingkungan rumah anak-anak!

Jawab :
