

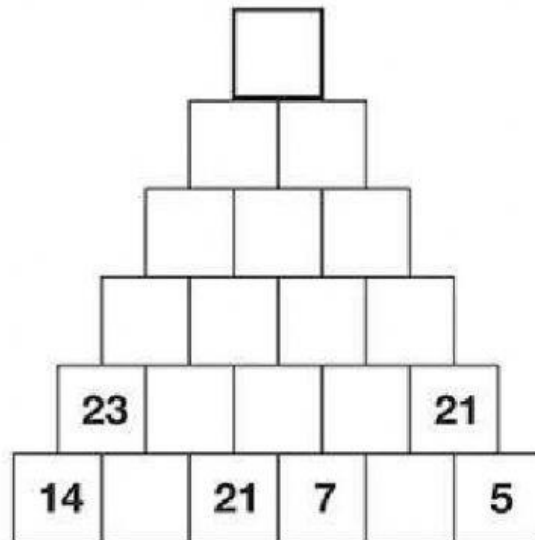
¡PON EN PRÁCTICA TODO LO APRENDIDO EN CÁLCULO!

1- Rellena la pirámide, ya sabes que debemos sumar las bases para obtener el número de arriba. Haz clic con el ratón en cada casilla y escribe el número con el teclado.

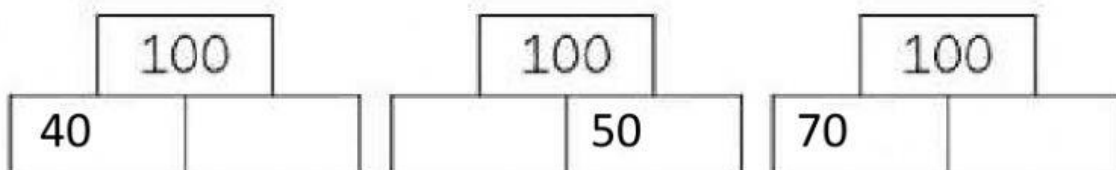
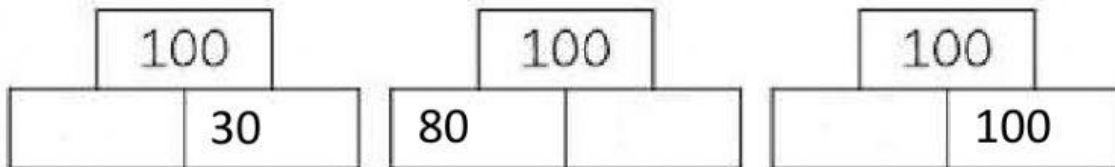


¿Cómo hago si me falta el de abajo?

HAZ CLIC EN LA NIÑA



2- Vamos a buscar a los amigos del 100, sólo tienes que saltar decenas para averiguar cuántas te faltan. Haz clic con el ratón en cada casilla y escribe el número con el teclado.



3- Resuelve estas operaciones, haz clic y completa con el teclado.



SI NECESITAS AYUDA PARA RECORDAR CÓMO SE SUMA EN HORIZONTAL HAZ CLIC ENCIMA DE LA NIÑA Y TE LO EXPLICO.

SI NECESITAS AYUDA PARA RECORDAR CÓMO SE RESTA EN HORIZONTAL HAZ CLIC ENCIMA DEL NIÑO Y TE LO EXPLICO.



$35 + 42 = \boxed{}$

$46 + 26 = \boxed{}$

$25 + 64 = \boxed{}$

$89 - 14 = \boxed{}$

$95 - 42 = \boxed{}$

$85 - 23 = \boxed{}$

4- Opera en vertical. Haz clic con el ratón en cada casilla y escribe el número con el teclado.

$$\begin{array}{r} 31 \\ - 20 \\ \hline \end{array}$$

--	--

$$\begin{array}{r} 19 \\ - 7 \\ \hline \end{array}$$

--	--

$$\begin{array}{r} 39 \\ - 17 \\ \hline \end{array}$$

--	--

$$\begin{array}{r} 68 \\ - 24 \\ \hline \end{array}$$

--	--

$$\begin{array}{r} 64 \\ - 32 \\ \hline \end{array}$$

--	--

$$\begin{array}{r} 37 \\ + 27 \\ \hline \end{array}$$

--	--

$$\begin{array}{r} 64 \\ + 18 \\ \hline \end{array}$$

--	--

$$\begin{array}{r} 45 \\ + 38 \\ \hline \end{array}$$

--	--

$$\begin{array}{r} 27 \\ + 45 \\ \hline \end{array}$$

--	--

$$\begin{array}{r} 43 \\ + 39 \\ \hline \end{array}$$

--	--

