
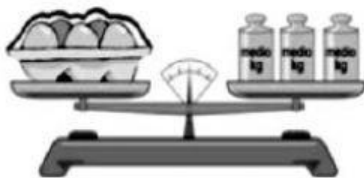


Kilo y litro

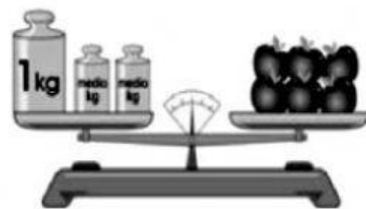
1 ¿Cuánto pesa?



Pesa _____.



Pesa _____.



Pesa _____.

2 Pinta la estimación correcta.



40 kg 2 kg
100 kg



10 L 2 L
100 L



4 kg 30 kg
10 kg



5 L 1 L
30 L

3 Lee y completa.



Entonces para 12  se necesitan:



12 vasos se llenarán con _____ litros.

4 Calcula:



_____ kg



_____ kg



_____ L



_____ y _____ L