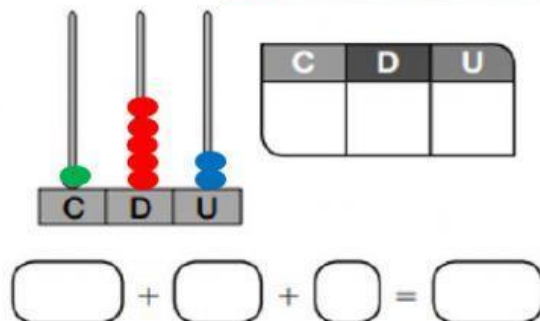
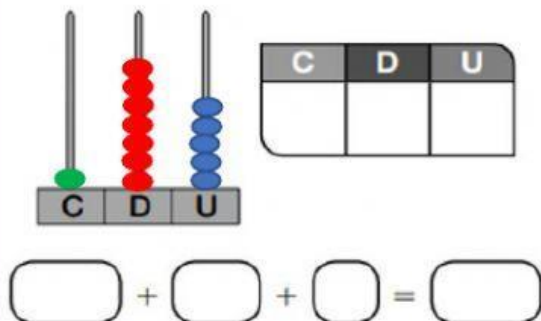


Ficha de repaso de matemáticas



Cuenta y completa.



Relaciona.

Cuarto

9.º

Undécimo

20.º

Décimo

4.º

Decimonoveno

19.º

Primero

10.º

Duodécimo

11.º

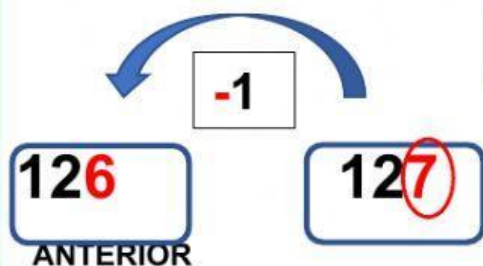
Noveno

1.º

Vigésimo

12.º

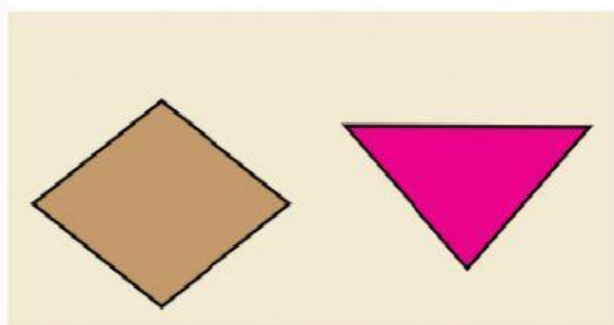
Escribe el número anterior y posterior de cada número.



	279	
	341	
	247	
	305	

	389	
	280	
	354	
	199	

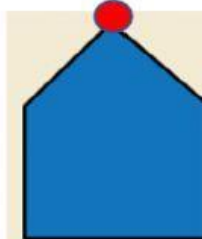
Cuenta y completa.



lados
 vértices

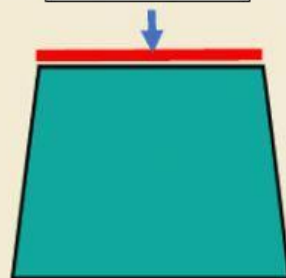
lados
 vértices

VÉRTICE



lados
 vértices

LADO



lados
 vértices

Lee y escribe el número.

Doscientos veinticuatro

Ciento cuarenta y siete

Doscientos noventa y nueve

Resta y suma.

$$\begin{array}{r} 72 \\ - 19 \\ \hline \end{array}$$

$$\begin{array}{r} 81 \\ - 26 \\ \hline \end{array}$$

$$\begin{array}{r} 18 \\ 37 \\ + 24 \\ \hline \end{array}$$

$$\begin{array}{r} 27 \\ 36 \\ + 32 \\ \hline \end{array}$$