



KEMENTERIAN PENDIDIKAN, KEBUDAYAAN,
RISET DAN TEKNOLOGI
SEKOLAH INDONESIA KOTA KINABALU

No. 1, Jalan 3B, KKIP Selatan 88450, Kota Kinabalu, Sabah Malaysia
☎ 088-492-600, 088-492-601 Fax 088-492-602 Website : <http://sikk.sch.id>



**PENILAIAN AKHIR SEMESTER
TAHUN PELAJARAN 2021/2022**

KELAS : 1 (SATU)
TEMA : 2 (KEGEMARANKU)
ALOKASI WAKTU : 90 MENIT

Berilah tanda silang (X) pada jawaban yang paling benar pada huruf A, B, atau C!

1. Gambar yang menunjukkan perilaku menaati aturan di rumah adalah

A.



B.



C.



2. Perhatikan gambar dibawah ini
Setiap hari dodi selalu

- A. mencuci kain
B. merapikan tempat tidur
C. menyapu halaman



3. Perhatikan gambar di bawah ini!

Sebelum pergi kesekolah kita harus

- A. berdoa
B. salam pamit orang tua
C. Sarapan pagi



4. Perhatikan gambar di bawah ini

Anton gemar ... bersama Ayah.

- A. menyanyi
B. melukis
C. membaca buku



5. Perhatikan gambar dibawah ini
Bona sedang melukis

A. gunung
B. rumah
C. bunga



6. Perhatikan gambar dibawah ini
Agar gigi kita putih dan nafas segar kita harus rajin ...

A. keramas
B. mandi
C. gosok gigi



7. Perhatikan gambar dibawah ini
Agar badan bersih bona selalu....

A. minum
B. bermain air
C. mandi



8. Perhatikan gambar dibawah ini
Untuk menambah ilmu kita perlu..

A. banyak membaca
B. banyak menggambar
C. rajin makan



9. Perhatikan gambar dibawah ini




Setiap pagi ayah ... Koran.

A. mencetak
B. membaca
C. Membawa


10. Perhatikan gambar dibawah ini

Kita dapat membaca dan meminjam buku di

A. perpustakaan
B. kedai
C. kantor




11. Perhatikan gambar dibawah ini


$$20 + 10$$

Hasil penjumlahan diatas adalah

- A. 40
- B. 50
- C. 30

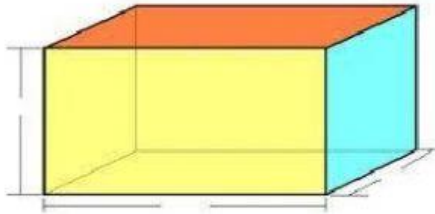
12. Perhatikan gambar dibawah ini


$$35 - 12$$

Hasil dari pengurangan diatas adalah

- A. 23
- B. 21
- C. 22

13. Perhatikan gambar dibawah ini




Gambar di atas adalah bangun ruang

- A. kerucut
 - B. lingkaran
 - C. balok
14. Perhatikan gambar dibawah ini

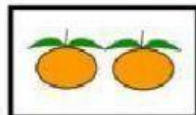


Gambar di atas adalah bangun ruang

- A. bola
 - B. segitiga
 - C. kubus
15. Perhatikan gambar dibawah ini




A



B



C



D

Jumlah jeruk di dalam kotak C adalah

- A. 4
- B. 5
- C. 3

16. Perhatikan gambar di bawah ini



Susi memakai batang pisang untuk membuat bentuk

- A. bola
- B. bunga
- C. batang

17. Perhatikan gambar dibawah ini

Saat bernyanyi kita
boleh sambil bertepuk

- A. tangan
- B. kaki
- C. bahu



18. Perhatikan gambar di bawah ini



Karya kolase di atas di buat dari

- A. batu
- B. kertas
- C. daun

19. Gerak berpegangan dengan tangan
yaitu ...

A.



B.



C.



20. Perhatikan gambar dibawah ini




Karya di atas dibuat dengan

A. kaki

B. telapak tangan

C. pensil warna


21. Perhatikan gambar dibawah ini



gambar di atas adalah

- A. anak berjalan membungkuk
- B. anak berdiri siap
- C. anak berjalan tegak

22. Perhatikan gambar dibawah ini



saat berlari posisi badan condong ke

- A. atas
- B. samping
- C. depan

23. Perhatikan gambar dibawah ini



Gambar di samping menunjukkan gambar anak sedang bergantung dengan kedua ...

- A. tangan
- B. kaki
- C. jari

24. Perhatikan gambar dibawah ini



Gambar bermain pesawat terbang di samping berguna untuk melatih

- A. kekuatan
- B. ketahanan
- C. keseimbangan

25. Perhatikan gambar dibawah ini



Gambar di atas termasuk permainan yang menyehatkan yaitu

- A. lomba lari
- B. ular naga
- C. lompat tali

26. Sesama teman kita harus hidup dengan

- A. rukun
- B. nakal
- C. jahat

27. Perhatikan gambar dibawah ini



Perhatikan gambar diatas, setelah bermain susi..... agar terhindar dari virus dan kuman

- A. mencuci kaki
- B. mencuci mata
- C. mencuci tangan

28. Perhatikan gambar dibawah ini



Perhatikan gambar diatas, Perbandingan jumlah mangkuk dan botol di atas adalah

- A. jumlah botol lebih sedikit daripada mangkuk
- B. jumlah botol lebih sedikit daripada mangkuk
- C. jumlah botol lebih banyak daripada mangkuk

29. Perhatikan gambar dibawah ini



Perhatikan gambar diatas, hasil karya tersebut terbuat dari....

- A. daun pisang
- B. daun jeruk
- C. daun jagung

30. Perhatikan gambar dibawah ini



Gambar diatas adalah anak anak sedang melakukan olahraga....

- A. sepakbola
- B. berenang
- C. bulutangkis