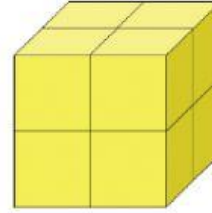
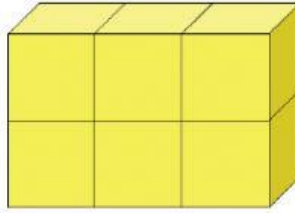
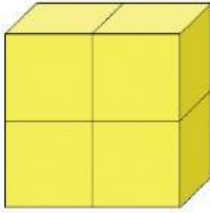


# KHỐI LẬP PHƯƠNG, KHỐI HỘP CHỮ NHẬT (Tiết 2)

## 1. Khoanh tròn vào khối lập phương



## 2. Hình khối thích hợp đặt vào dấu “?” là hình nào?

