




Dạng 1: Bé hãy điền đáp án vào phép tính trừ bên dưới hình ảnh.




$$5 - 2 = \square$$



$$3 - 2 = \square$$



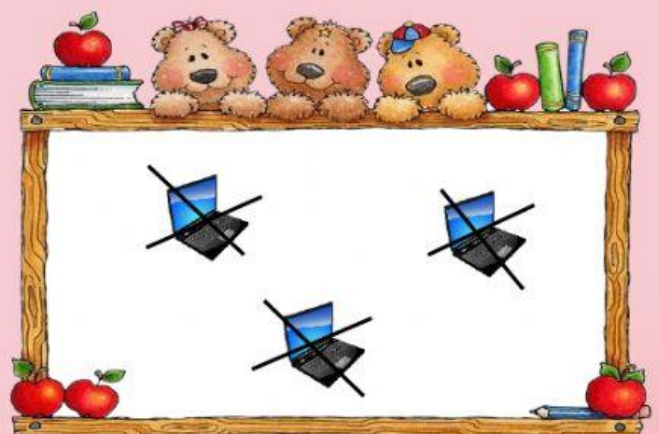
$$4 - 4 = \square$$



$$5 - 1 = \square$$



$$5 - 3 = \square$$



$$3 - 3 = \square$$

Dạng 2: Bé hãy điền đáp án vào các phép trừ bên dưới hình ảnh. Sau đó, bé hãy nối đáp án của phép tính với kết quả đúng ở bên phải nhé!



$3 - 1 =$



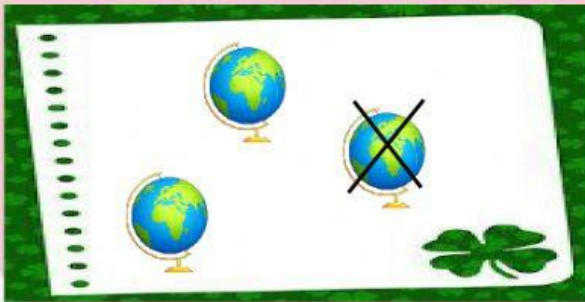
$4 - 3 =$



$4 - 1 =$

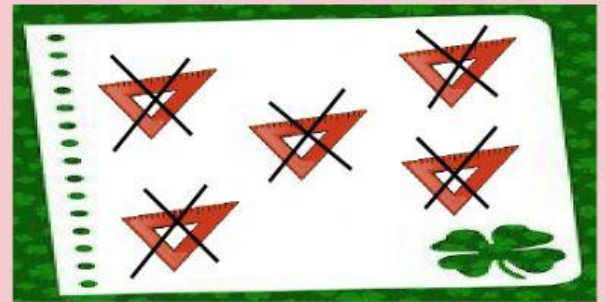


Dạng 3: Bé hãy thực hiện các phép trừ trong hình ảnh và tích chọn vào đáp án đúng nhé!



$3 - 1 = 2$

$2 - 1 = 1$



$5 - 4 = 1$

$5 - 5 = 0$